

**INFO**  
groep 6

Informatieverwerking  
**Werkboek**

**Z**



**Ajodakt**

ThiemeMeulenhoff

# INFO

## Informatieverwerking

Naam: \_\_\_\_\_

Groep: \_\_\_\_\_



De volgende doelen komen aan bod in dit boek:

- Ik kan woorden in alfabetische volgorde zetten.
- Ik kan informatie aflezen uit verschillende bronnen (zoals teksten, grafieken, tabellen en advertenties).
- Ik kan verschillende soorten grafieken tekenen.

Hallo,

Leuk dat je aan de slag gaat met dit oefenboekje.

Je kunt de oefeningen zelfstandig maken maar als je er niet uitkomt, kun je hulp vragen aan je juf of meester.

De antwoorden vind je op deze website:

**[www.zelfstandig-werken.nl](http://www.zelfstandig-werken.nl)**. Overleg met je juf of meester wanneer je de antwoorden gaat bekijken.

Veel succes met het maken van de oefeningen!

Deze titel maakt onderdeel uit van de vernieuwde serie Z-oefenboekjes van ThiemeMeulenhoff.

**ajodakt**

## **Informatieverwerking**

**Groep 6**

**Auteur**  
P. Nagtegaal



# Les 1

1

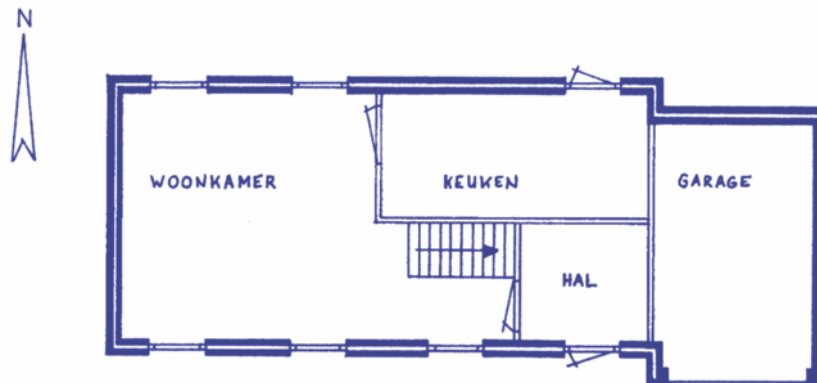
Lees de tekst over de windroos en maak de vragen.

Een windroos geeft op bijvoorbeeld landkaarten en bouwtekeningen aan, welke kant van de kaart of tekening naar het noorden wijst. Wanneer je het noorden weet, kun je ook bepalen waar de andere windrichtingen liggen.

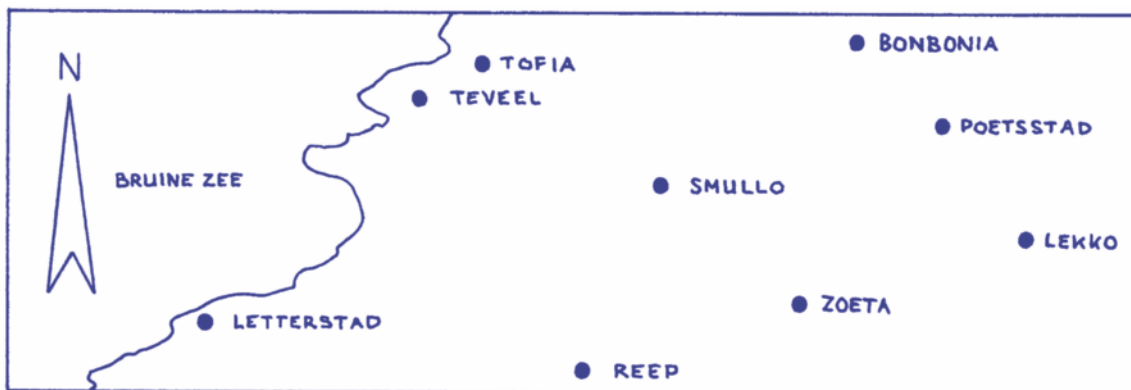
a Schrijf de andere windrichtingen bij de windroos.



b Kleur in de bouwtekening de noordzijde rood en de zuidzijde blauw.



Bekijk de landkaart van Chocaladia en maak daarna de vragen.



- c Welke plaats ligt het meest noordelijk? .....
- d Welke plaats ligt het meest zuidelijk? .....
- e Welke plaats ligt het meest westelijk? .....
- f Welke plaats ligt het meest oostelijk? .....

2

- a Vul het alfabet steeds met drie letters aan.

d - e - f - g - h - ..... - ..... - ..... - .....

m - n - o - p - q - ..... - ..... - ..... - .....

r - s - t - u - v - ..... - ..... - ..... - .....

- b Kleur de vakken waarvan de woorden in alfabetische volgorde staan.

aap beer leeuw muis kip	adder krokodil mug slang zeeleeuw	mier nijlpaard otter paard varken	das hert egel jakhals konijn	meeuw rat tijger vos zwijn
beuk eik iep kastanje wilg	den esdoorn lijsterbes spar cipres	arm been kin nek hiel	oor pols rug teen schouder	hart lever nier milt slokdarm

3

- Lees de advertentie en maak daarna de vragen.

<h2>Dierenwinkel De Leeuwerik</h2>
<p>Twee kilo brokken voor de kat 12 euro.            Drie kilo brokken voor de hond 15 euro.            Eén kilo konijnenvoer 6 euro.            Vier kilo kippenvoer 18 euro.            Vijf kilo paardenbrokken 20 euro.</p>

- a Casper koopt drie kilo brokken voor de kat. Hoeveel moet hij betalen?

.....

- b Marlinda koopt twee kilo paardenbrokken en betaalt met een briefje van 10 euro.

Hoeveel geld krijgt Marlinda terug? .....

- c Bertus koopt voor de kinderboerderij: vier kilo kattenbrokken, twee kilo hondenbrokken,

drie kilo konijnenvoer en twee kilo kippenvoer. Hoeveel moet hij betalen? .....

- d Voor welk dier is het voer per kilo het goedkoopst? .....

# Les 2

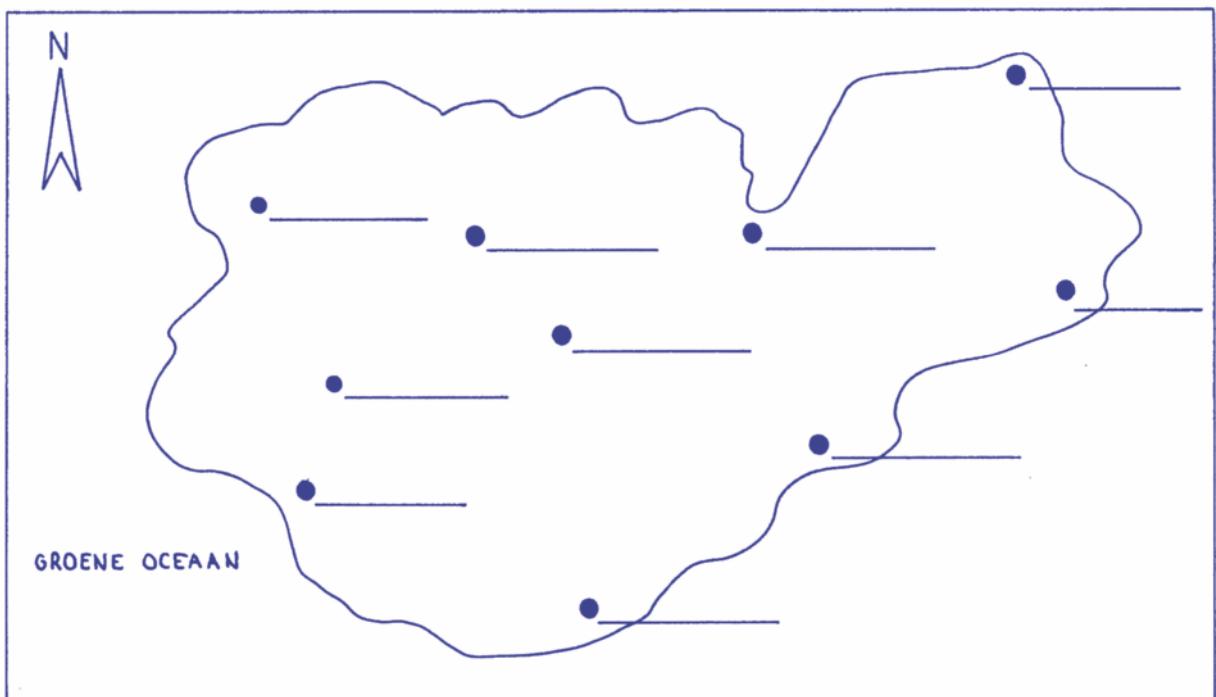
1

De namen in contacten op een telefoon staan op alfabetische volgorde. Hieronder zie je vier stukjes uit een lijst van contacten. Zet een kruis in het vak waar de namen niet in alfabetische volgorde staan.

<b>Hoogendam P J</b> Lange Delft 15 9988 AA 89 76 55	<b>Louws J</b> Singel 345 9965 TT 87 67 76
<b>Janse M C</b> Dam 2 9987 GH 88 65 43	<b>Messing S</b> Boterweg 87 9956 RE 86 55 33
<b>Kam V H de</b> Noorderbaan 1 9967 ER 84 43 22	<b>Oreel T M</b> Chopinlaan 5 9954 KL 87 40 01
<b>Leenhouts M R</b> Bachlaan 4 9968 ME 86 24 63	<b>Netten P</b> Appelsteeg 78 9965 KK 86 55 05
<b>Poorter H H de</b> Mesdaglaan 88 9902 VS 89 20 66	<b>Schuil J</b> Singel 88 9954 NN 87 61 32
<b>Quite E</b> Palinglaan 54 9976 SC 89 70 12	<b>Timmerman M</b> Bosjeslaan 66 9987 AN 86 54 39
<b>Rodenburg J</b> Walstraat 6 9901 GH 87 66 12	<b>Peperzak H</b> Postplein 77 9954 BB 87 66 04
<b>Schouten A</b> Molenstraat 55 9943 CV 88 50 32	<b>Verdaasdonk J K</b> Vlamingstraat 3 9954 TT 86 55 43

2

Bekijk de kaart van het eiland Deksiko en maak daarna de vragen.



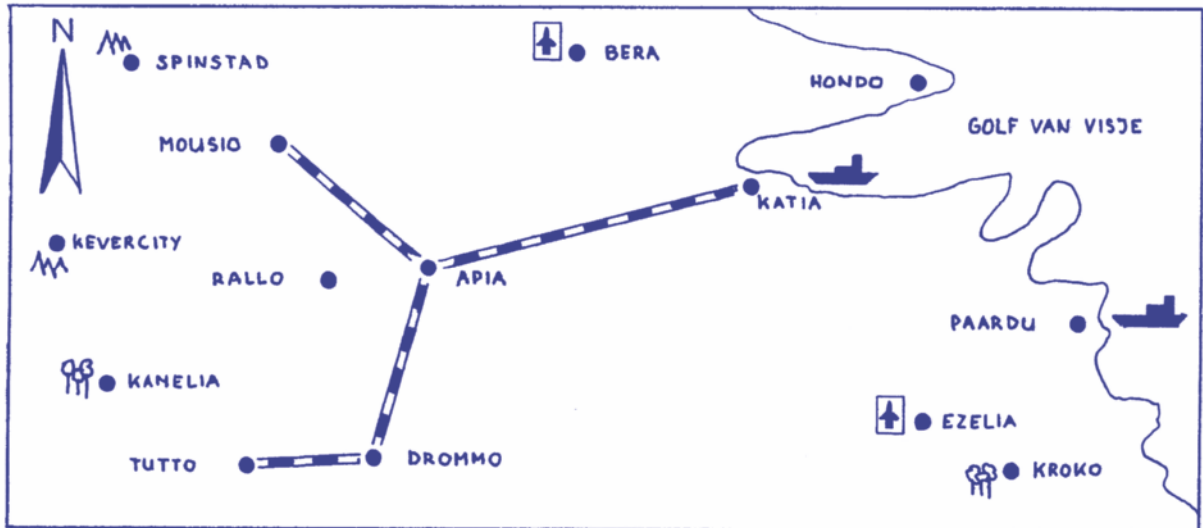
- De meest noordelijk gelegen stad heet Valo. Zet de naam van de stad op de streep.
- De meest westelijk gelegen stad heet Oksal. Zet de naam van de stad op de streep.
- De meest zuidelijk gelegen stad heet Accro. Zet de naam van de stad op de streep.
- De meest oostelijk gelegen stad heet Gemsa. Zet de naam van de stad op de streep.
- Kleur het eiland groen en het water blauw.
- Bedenk zelf nog 6 namen en schrijf ze op de lijnen.

### Hieronder zie je de *legenda* van een landkaart.



In een legenda staan eenvoudige symbolen, die veel extra informatie kunnen geven.

Bekijk de landkaart en beantwoord de vragen.



- Bij welke steden vind je een vliegveld? .....
- Bij welke steden vind je een haven? .....
- Welke steden zijn door middel van een spoorlijn verbonden met Apia?  
.....
- Welke steden liggen in een bergstreek? .....
- Welke steden liggen in een bosgebied? .....
- Teken zelf een spoorlijn van Tutto naar Rallo.
- Kleur het land groen en het water blauw.

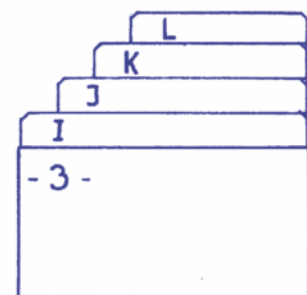
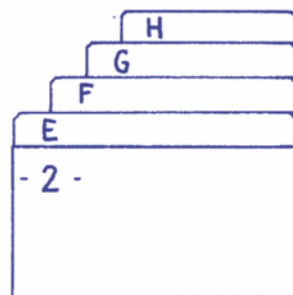
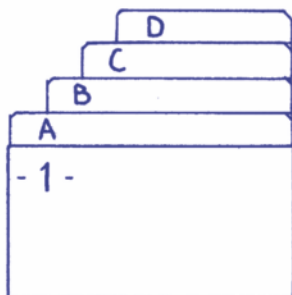
# Les 3

Om het zoeken op een kaart makkelijker te maken, wordt een kaart ingedeeld in vakken. Elk vak heeft zijn eigen code. De code wordt aangegeven met een letter en een cijfer. Van links naar rechts staan letters en van boven naar beneden heeft elk vak een cijfer. In de kaart hieronder staan in de vakken met de coördinaten D3 en H1 een kruis.

	A	B	C	D	E	F	G	H	I	J
1								X		
2										
3				X						
4										
5										

1 Zet een kruis in de volgende vakken: B5 – D1 – F4 – G2 – I5 – I2 – G3 – F5 – D2 – C5 – B1 – B4 – C1 – D4 – F3 – H3 – I3 – D5 – I4.

2 Bekijk de mappen van dierenarts V. Arken. In de mappen heeft Victor Arken informatie over de dieren die zijn praktijk bezoeken opgeslagen. De naam van het dier bepaalt in welke map de informatie staat. Er zijn nog meer mappen, voor de rest van de letters.



In welk mapnummer vind je informatie over:

- a **Katja**; hamster van Judith van Dam. Mapnummer: .....
- b **Cesar**; poes van de Fam. Karelse. Mapnummer: .....
- c **Pluto**; Duitse herder van Kees Hond. Mapnummer: .....





