

INFO
groep 7

Informatieverwerking
Werkboek

Z



Ajodakt

ThiemeMeulenhoff

INFO

Informatieverwerking

Naam: _____

Groep: _____



De volgende doelen komen aan bod in dit boek:

- Ik kan informatie aflezen uit verschillende bronnen (zoals teksten, grafieken, tabellen en advertenties).
- Ik kan verschillende soorten grafieken tekenen.

Hallo,

Leuk dat je aan de slag gaat met dit oefenboekje.

Je kunt de oefeningen zelfstandig maken maar als je er niet uitkomt, kun je hulp vragen aan je juf of meester.

De antwoorden vind je op deze website:

www.zelfstandig-werken.nl. Overleg met je juf of meester wanneer je de antwoorden gaat bekijken.

Veel succes met het maken van de oefeningen!

ajodakt

Informatieverwerking

Groep 7

Auteur
P. Nagtegaal



Les 1

1

Lees het stukje uit het woordenboek en maak daarna de vraag.

Bruinbrood, o. Brood van tarwe met zemelen.
Bruineren, -neerde, gebruieneerd.
 Een bruine kleur geven.
Bruingeel, bn. Donkergeel.
Bruinogig, bn. Een bruinogig meisje.

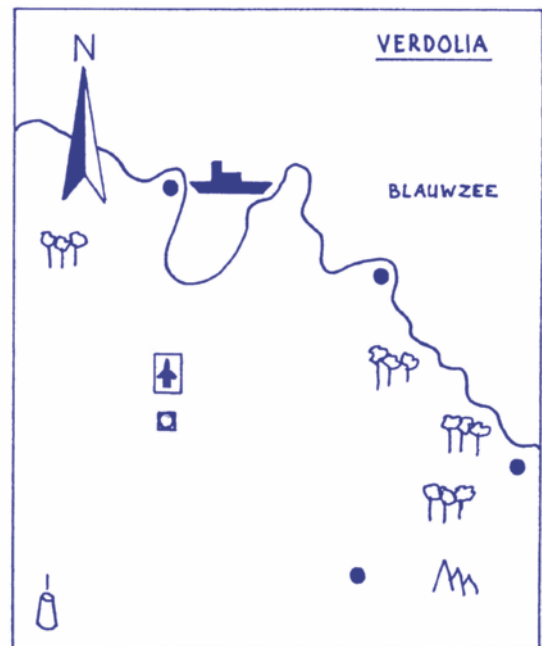
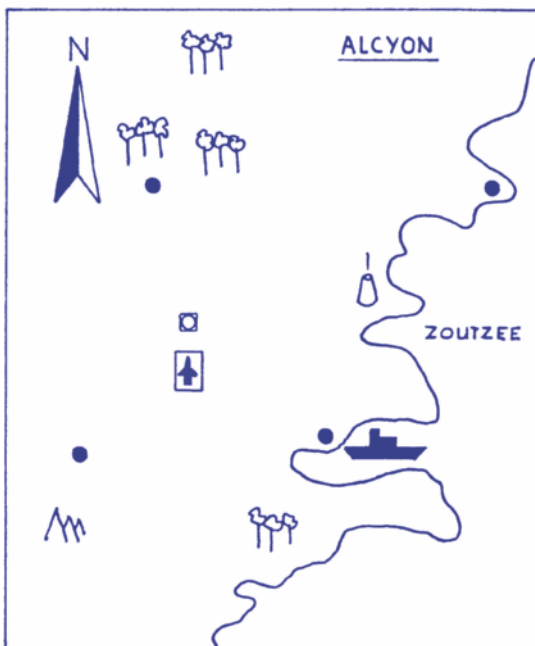
Bruinvis, m. -sen. Walvisachtig zoogdier, ook wel tuimelaar genoemd.
Bruis, o. Schuim.
Bruisen, bruiste, gebruiset.
Bruistablet, m. -ten. Pil die bruist in water.

Omcirkel de tekening van de tuimelaar.



2

Bekijk de legenda en de kaarten van Alcyon en Verdolia en maak daarna de vragen.



Legenda: Hoofdstad Stad Haven Vliegveld Bergen
 Vulkaan Bossen

- In welk land ligt het vliegveld ten noorden van de hoofdstad?
- In welk land ligt de vulkaan ten wesen van de hoofdstad?
- In welk land liggen de meeste bossen in het westen?
- In welk land ligt de haven zuidelijker dan de vulkaan?
- In welk land liggen de meeste bergen in het oosten?

3**Zet een kruis door de vakken waarin de woorden *niet* in alfabetische volgorde staan.**

blauw geel lila oranje paars rood	armen benen darmen gewrichten handen nieren	kokkel platschelp tolhoren venusschelp nonnetje wenteltrap	hagel mist motregen sneeuw stortbui wolkbreuk	beeldscherm modem muis printer toetsenbord scanner
bruin grijs groen oker wit zwart	aorta bloedplaatje halsslagader plasma vaatvlies zuurstof	fuikhoorn gaper muiltje mossel noordhoren pelikaansvoet	briesje cycloon orkaan passaat storm wervelwind	alt backspace delete end enter shift

4**Lees de informatie op een tube tandpasta en maak daarna de vraag.**

- *Poets 3× daags uw tanden.*
- *Neem om de twee maanden een nieuwe tandenborstel.*
- *Breng tweemaal per jaar een bezoek aan de tandarts.*
- *Poets met AQUAFLUOR voor optimale verzorging van tanden en tandvlees.*

- a Wat is de merknaam van de tube waarop de informatie staat?
- b Hoe vaak wordt een bezoek aan de tandarts op deze tube aangeraden?

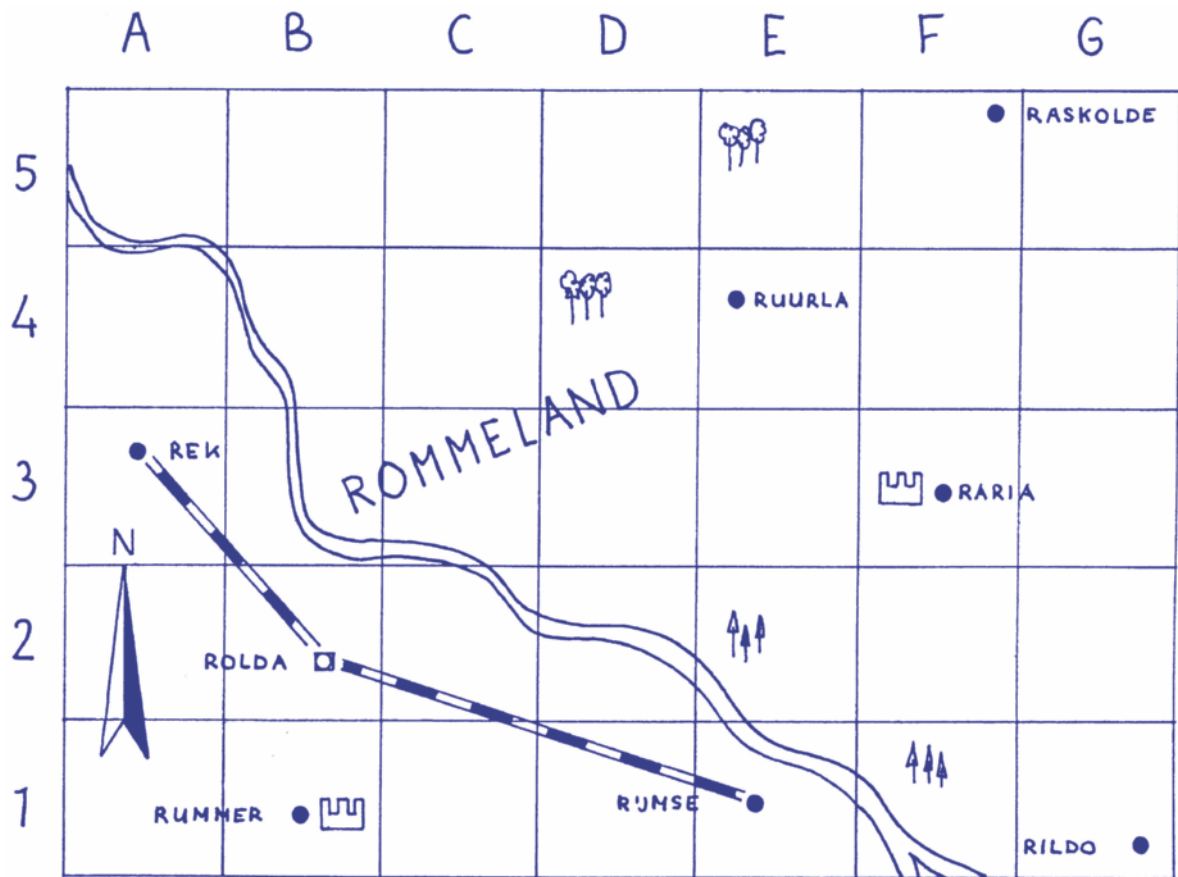
5**Vul de windroos aan met de andere windrichtingen.**

WEST



Les 2

1 Bekijk de kaart en de legenda van Rommeland en maak daarna de vragen en opdrachten.



Legenda: Hoofdstad Stad Spoorlijn Monument
 Loofbossen Dennenbossen Hunebedden Brug

- Welke steden zijn door middel van een spoorlijn verbonden aan de hoofdstad?
.....
- Bij welke steden vind je een monument?
- Teken in de vakken B3 en E1 een brug over de rivier.
- Verbind de meest noordelijk gelegen stad door middel van een spoorlijn met de meest zuidelijk gelegen stad.
- In de vakken A4 en D3 vind je hunebedden. Teken de hunebedden op de kaart.
- In welke vakken vind je dennenbossen?
- In welke vakken vind je loofbossen?
- Kleur het land groen en het water blauw.

2

Bekijk onderstaande telefoongegevens en maak daarna de vragen.

Dropper H

Aagje Dekenstraat 12, 9876 BV 879866

Drost G

Rossinilaan 42, 9855 CX 832211

E-mail drost@gert.nl

Druenen H.G. van Arts

Noordhoekweg 234, 9866 HG 875600

Duin J

Slijkstraat 3 9876 GD 865588

Duin K

Visserweg 78, 9755 AA 875509

Mobiele telefoon 07-65 65 87 01

Duine L Scheepsbouwkundige

Veerweg 345, 9823 SA 875433

Duik P

Winterweg 123, 9856 RD 876767

- a Evelien voelt zich niet lekker. Ze wil graag dat er een dokter naar haar toekomt. Wie moet ze bellen?
- b K. Duin is vandaag niet bereikbaar op nummer 875509. Op welk nummer is K. Duin misschien wel bereikbaar?
- c Wat is het beroep van L. Duine?
- d Mevrouw Janssen uit Hilderdijk stuurt een e-mail naar meneer Drost. Wat is het e-mailadres van meneer Drost?
- e Op welk adres woont de familie Dropper?

3

Kleur de vlakken met de volgende coördinaten groen.

A1 – A5 – B2 – B4 – C3 – D2 – D4 – E1 – E5 – F3 – G2 – G4 – H1 – H5 – I2 – I4 – J3


	A	B	C	D	E	F	G	H	I	J
1										
2										
3										
4										
5										

Les 3

1 Bekijk de mappenstructuur van fysiotherapeut K. Need en maak daarna de vragen.



A t/m F



G t/m K



L t/m O



P t/m S

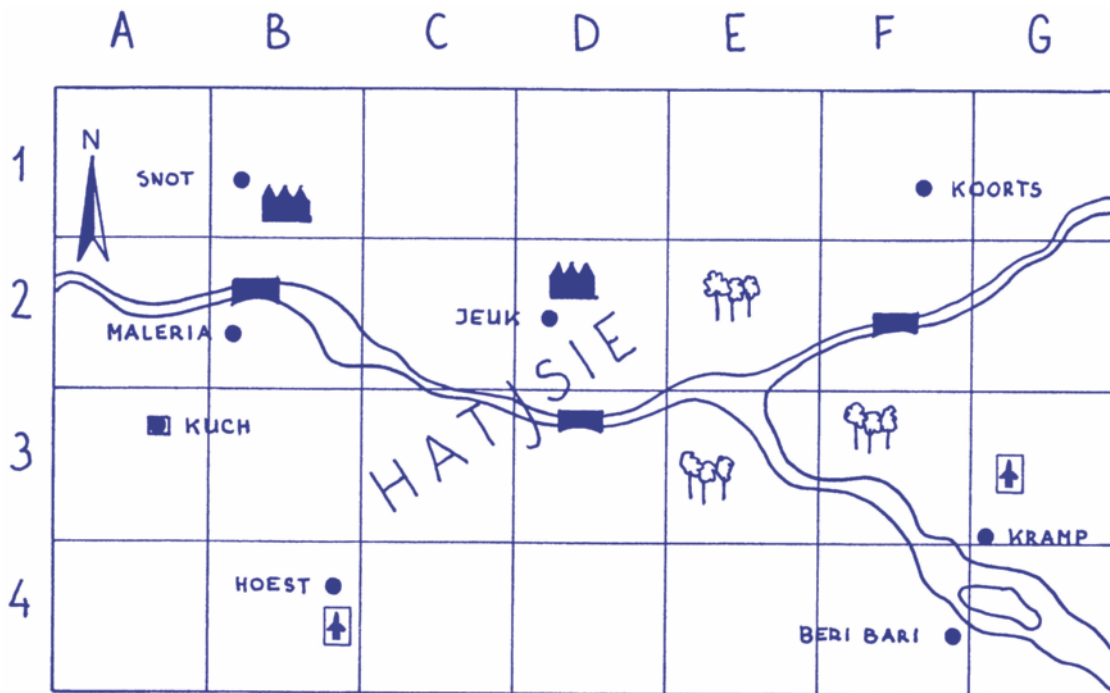


T t/m Z

Noteer in welke mappen je informatie vindt over de volgende patiënten:

- a Lauwerse A.J. Nummer
- b Floresse P. Nummer
- c Taart K.L. Nummer
- d Griep S. Nummer
- e Bosman C. Nummer
- f Zandstra V.V. Nummer
- g Otterman N. Nummer
- h Hoven Y. van Nummer

2 Bekijk de kaart en de legenda van Hatsie en maak daarna de vragen.



- Legenda: ■ Hoofdstad ● Stad — Brug — Spoorlijn
■ Meer ■ Industrie ■ Vliegveld ■ Bossen



9 789006 491203