

# TELLEN VAN 1-10

Kun je tellen hoeveel dieren er in elke groep zitten?  
Schrijf de antwoorden in de vakjes.

Trek aan het  
schuifje om je  
antwoorden te  
checken!



# TELLEN VAN 10-20

Goed gedaan! Probeer nu tot 20 te tellen!




4



1



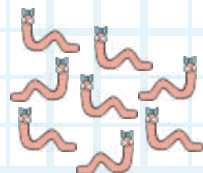
6



9



5



8



10




3



2



7




20




17




14




13



19



16



12



11



18



15



# PLUSSOMMEN MET 1

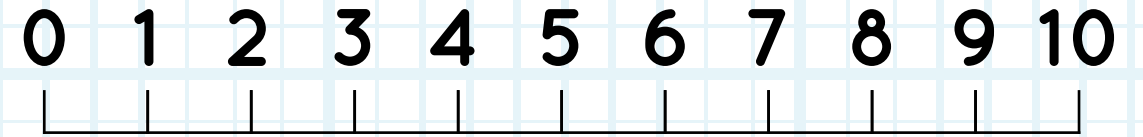
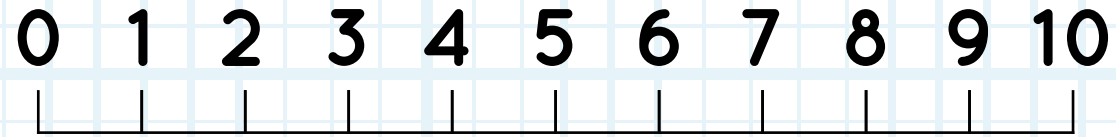

Gebruik de getallenlijn om steeds 1 bij het getal op te tellen. Schrijf de antwoorden in de vakjes.

Trek aan het schuifje om je antwoorden te checken!



# MINSOMMEN MET 1

Wow, jij bent echt goed in rekenen! Kun je nu met behulp van de getallenlijn steeds 1 van het getal afhalen?



$7 + 1 = 8$

$2 + 1 = 3$

$6 - 1 = 5$

$2 - 1 = 1$

$1 + 1 = 2$

$9 + 1 = 10$

$3 - 1 = 2$

$8 - 1 = 7$

$3 + 1 = 4$

$8 + 1 = 9$

$4 - 1 = 3$

$5 - 1 = 4$

$6 + 1 = 7$

$7 + 1 = 8$

$7 - 1 = 6$

$6 - 1 = 5$

