

Grotschildering

Hoeveel dieren tel je?

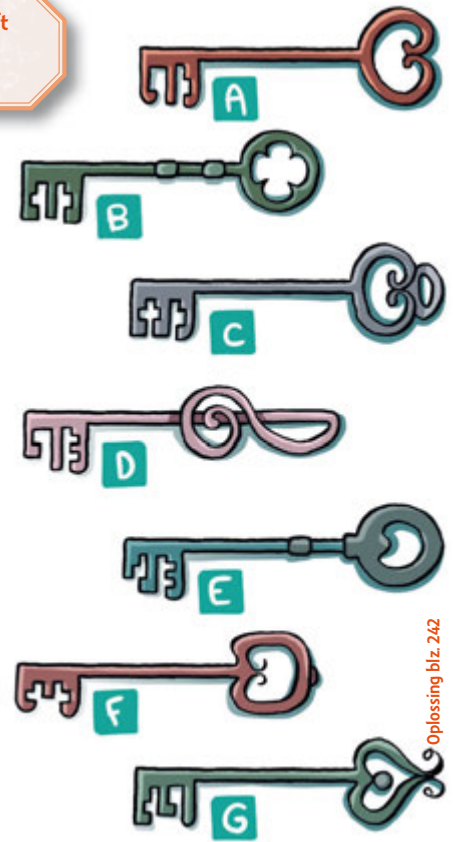


Oplissing blz. 245

Op slot

Ieder slot heeft zijn sleutel... behalve één!

- 1
- 2
- 3
- 4
- 5
- 6
- 7
- 8



Oplissing blz. 242




De vijver

Spring van het begin naar het einde, maar alleen via de vakjes kikker-bloem-riet die naast elkaar liggen (niet diagonaal!).

Oplossing blz. 242

Stippen


Denk je dat de stippen netjes op een rij liggen?







Gewichtige katten


Luca heeft veel katten:
grote, kleine, dikke, dunne...
De dieren zitten graag
op de wip in de tuin.
Hier zie je ze op verschillende
momenten van de dag.




Welke katten moeten
aan het andere eind
van de wip gaan
zitten zodat die in
evenwicht is?



Van katten tot kat

 Pieter maakte al foto's van zijn kat toen die nog maar een kitten was. Intussen is het een grote kater.



Zet de foto's van klein naar groot (van de eerste naar de recentste foto) en je ontdekt de naam van de kat!



De gondeliers

Dit zijn de vier beste gondeliers van Venetië.
Mario staat rechts van Carlo.
Guido staat tussen Carlo en Lorenzo.

Weet je de naam van elke gondelier?

Oplissing blz. 250

Scheve foto's



Een vierde van deze foto's werd genomen met een wegwerpcamera, de helft met een digitaal toestel en de zes overige foto's met een klassiek fototoestel.

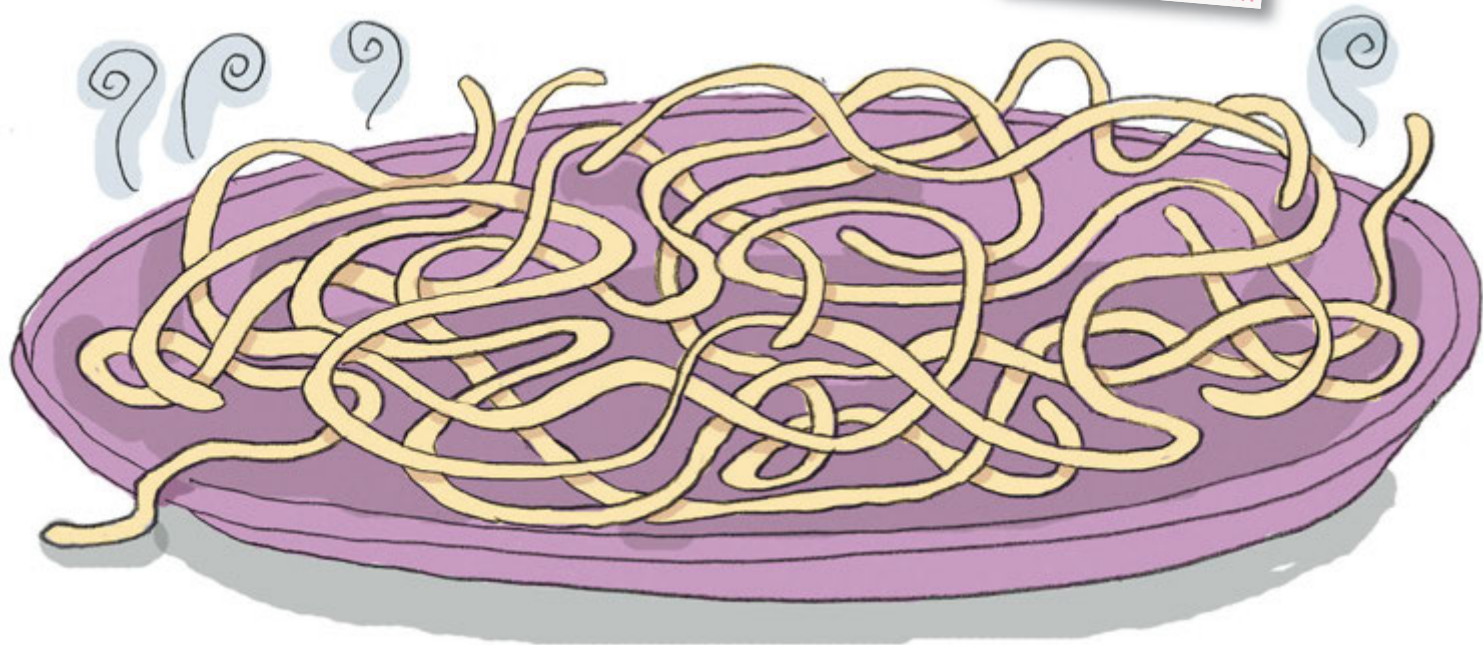
Hoeveel foto's van de Toren van Pisa zijn er?



Oplissing blz. 250


Spaghetti

Hoeveel spaghetti'slierten
liggen er op dit bord?



Surfen


☆☆☆
Surf over de golven
zonder kopje-onder
te gaan!



Oplossing blz. 246

Duiken maar

☆☆☆
Ontwijk de golven
en
vang de vis.



Oplossing blz. 246

Inktvis

Wat veel tentakels!
Welke vangt
de visjes?



Haai

Deze
hongerige
haai lust wel
een
schooltje
malse visjes!

Oplissing blz. 246