



# Inzage exemplaar

Citotoets, Entreetoets, LVS-toetsen -  
oefenen boeken set – groep 7+8

## Studievaardigheden

ISBN: 978-90-824959-0-4

### **Inhoud**

#### **Studievaardigheden:**

- Omgaan met informatie: Informatie verwerken (taal),  
Opzoeken (taal)
- Woorden: bronnen (taal), alfabetische volgorde (taal),  
woordenboek (taal)
- Meten en meetkunde: kaartgebruik (rekenen)
- Verbanden: grafieken (rekenen), tabellen (rekenen),  
diagrammen (rekenen)

#### **De set bestaat uit:**

1. Een opgavenboek
2. Een antwoorden / uitlegboek

*Versie: 25 april 2016*



---

*Citotoets, Entreetoets, LVS-toetsen -  
oefenen boeken set - groep 7+8  
Studievaardigheden  
Opgavenboek  
versie 1.0*

*Uitgave voor het basisonderwijs*



---

25-04-2016

**Actie: kosteloos aanvullend online oefenen \***

Heeft u deze boekenset **nieuw** aangeschaft (bij een andere leverancier dan SM&C Internet Services bv)?

Dan kunt u een kosteloos gebruiksrecht aanvragen om online te oefenen voor één of meerdere maanden. U kunt dan aanvullend (laten) oefenen en leren op de website [www.toetsendleren.nl](http://www.toetsendleren.nl). Tevens kunnen dan ontbrekende of nieuwe onderwerpen (m.b.t. de toetsing) geoefend worden.

**Aanvragen kosteloos online oefenen \***

- U meldt zich aan op de **website** [www.toetsendleren.nl](http://www.toetsendleren.nl) in het onderdeel Aanmeldcodes | Actiecodes of
- U neemt **telefonisch contact** op met uitgeverij SM&C Internet Services bv op **053-4361626** om u aan te melden.

*\* Kijk op de bedoelde website of deze actie momenteel van toepassing is en voor hoeveel maanden u dan kosteloos gebruik kunt maken van deze website.*



## Verantwoording

*In dit oefenboek staan oefenopgaven voor studievoordigheden:*

- *Omgaan met informatie: Informatie verwerken (taal), Opzoeken (taal)*
- *Woorden: bronnen (taal), alfabetische volgorde (taal), woordenboek (taal)*
- *Metten en meetkunde: kaartgebruik (rekenen)*
- *Verbanden: grafieken (rekenen), tabellen (rekenen), diagrammen (rekenen)*

*Bij dit opgaven boek hoort een antwoorden en uitleg boek.*

Er wordt voor studievoordigheden geoeft op de referentieniveaus 1f en 1s. Met deze uitgave kan geoeft worden voor Studievoordigheden in groep 7 & 8. Wilt u het volledige oefenpakket gebruiken met meer onderwerpen, dan verwijzen wij u naar onze website, alwaar u een gebruiksrecht kunt aanschaffen voor een online oefenpakket:

Toetsendleren  Online



[www.toetsendleren.nl](http://www.toetsendleren.nl)

### Opmerkingen bij het gebruik van deze boeken set

- Voorbereiden op LVS-toetsen / Entreetoetsen / Citotoetsen  
De onderdelen van het vak Studievoordigheden zijn in de toetsen in groep 7 en 8 verdeeld over Rekenen en Taal.
- Voorbereiden op aparte LVS toetsen Studievoordigheden van CITO  
In de LVS toetsen in groep 7 en 8 van het Cito kan het zijn dat Studievoordigheden (ook) als zelfstandig vak apart getoetst wordt. Informeer u of deze toets(en) (ook nog) afzonderlijk afgenomen worden en of dit op uw school het geval is.

### Disclaimer en errata

De inhoud en / of onderwerpen van de Centrale Eindtoets - Cito Eindtoets, Entreetoets en / of LVS-toetsen kunnen gewijzigd zijn / worden door de makers van de toetsen. Informeer u bij uw school tijdig of dit het geval is en wat er veranderd is, zodat u goed op de hoogte bent wat wel en niet geoeft dient te worden in dit boek (voor uw zoon / dochter / leerling(en)).

Voor errata met correcties verwijzen wij u naar de site [www.toetsendleren.nl](http://www.toetsendleren.nl).

Redactie SM&C Internet Services bv - Toetsendleren.nl - Enschede  
april 2016.



---

De inhoudsopgave hoort bij de originele boeken set.

## Opgavenboek

### Inhoud

<b>Studievaardigheden – Informatieverwerking.....</b>	
<b>Studievaardigheden – Woorden en woordvolgorde.....</b>	
<b>Studievaardigheden – Kaartgebruik.....</b>	
<b>Studievaardigheden – Grafieken, tabellen en diagrammen.....</b>	

---



## Colofon

Uitgever : SM&C Internet Services BV, Enschede  
Projectleider : Dhr. O.H.M. Sanders

SM&C Internet Services BV

Postbus 40223

7504 RE Enschede

Telefoon : 053-4361626

E-mail : [info@smc.nl](mailto:info@smc.nl)

Web : [www.toetsendleren.nl](http://www.toetsendleren.nl) - [www.smc.nl](http://www.smc.nl)

## Druk en oplage

Eerste druk – eerste oplage.

Deze uitgave bestaat uit een opgaven boek en een antwoord/uitleg boek.

## Aanvullend

Niets uit deze uitgave mag worden verveelvoudigd en/of openbaar gemaakt door middel van druk, (digitale) kopie of op welke andere wijze ook, zonder voorafgaande toestemming van de uitgever.

© SM&C Internet Services BV, Enschede – 2016.



# Studievaardigheden – Informatieverwerking

## Vakantie naar Fuerteventura

### Vraag 1

Info:

Bekijk bron 1.

**Pagina uit een online reisgids 2008**

Accommodatie	Reissom (in mei)	Extra	Inbegrepen bij de reissom
	<b>Aantal dagen: 8</b>	★ ★ ★	
	<b>Prijs per persoon</b>	<b>Prijs per persoon</b>	
★	€ 900,-	€ 50,-	<ul style="list-style-type: none"><li>• Ligstoel</li><li>• Kinderanimatie</li><li>• Dagelijkse schoonmaak</li></ul>
<b>Hotel Miramar aan zee</b>	★ ★	€ 75,-	<ul style="list-style-type: none"><li>• ★ ★ ★ ★</li><li>• Kinderanimatie</li><li>• Dagelijkse schoonmaak</li><li>• Ontbijt en avondeten</li><li>• Toegangsbewijs boottocht op zee</li></ul>

Bron 1: Pagina uit een online reisgids 2008.

### Toelichting bij de tabel

- In de tabel is geen sprake van aanbiedingen, het gaat om normale prijzen.
- Kinderkortingen zijn niet op deze online reisgidspagina aangegeven.
- Kolom Reissom, een en ander inclusief: vliegreis heen en terug, eventuele bijkomende belastingen, vervoer vliegveld.
- Accommodatie (b.v. hotel, appartement), heen en terug en het verblijf in de accommodatie.



Wat moet er op de plek van één ster (= ★) staan? Kies het beste antwoord.

- A) Hotel Miramar aan zee
- B) Kinderanimatie
- C) Zon
- D) Appartement Mar Costa aan zee

## Vraag 2

**Info:**

Bekijk bron 1.

Wat moet er op de plek van twee sterren (= ★★) staan? Kies het beste antwoord.

- A) € 1.300,00
- B) Gratis in juni
- C) 14 dagen
- D) Appartement Mar Costa aan zee

## Vraag 3

**Info:**

Bekijk bron 1.

Wat moet er op de plek van drie sterren (= ★★★) staan? Kies het beste antwoord.

- A) Totale reissom
- B) Per extra dag
- C) Hotel met zwembad
- D) Per extra periode van 14 dagen



## Vraag 4

### Info:

Bekijk bron 1.

Wat moet er op de plek van vier sterren (= ★★★★★) staan? Kies het beste antwoord.

- A) Hotel
- B) Appartement
- C) Ligstoel
- D) Gratis

## Sportsponsoring

## Vraag 5

### Info:

Een bedrijf zoekt naar mogelijkheden om via sportsponsoring de bekendheid van de naam van de website van het bedrijf te vergroten in de doelgroep van het bedrijf, in een zo groot mogelijk gebied.

Het bedrijf wil daarmee de sport ondersteunen en de verkoop van de producten stimuleren.

De doelgroep van het bedrijf bestaat onder andere uit ouders van leerlingen in groep 7 en 8 van een basisschool.



Bron 1: Deel van de doelgroep van het bedrijf.





*Bron 2: Het sponsorbudget.*

Het bedrijf levert producten aan de doelgroep in heel Nederland.  
Het sportsponsoring budget is vastgesteld op maximaal € 2.000,00 voor dit jaar.

Het bedrijf heeft een aantal aanbiedingen voor sportsponsoring ontvangen van verenigingen uit de stad waarin het bedrijf gevestigd is.

Lees de aanbiedingen en beantwoord dan de vraag.

### **1. Sponsoring tennisvereniging Topbal**

#### **Aanbieding**

- Plaatsing reclamebord langs één van de tennisbanen met vermelding daarop van het bedrijfslogo en de naam van de website van het bedrijf.
- Plaatsing van een advertentie van het bedrijf met vermelding naam website in het clubblad.
- Sporters / leden van de club en toeschouwers komen uit (een kleine regio rond) de stad.
- Kosten € 2.500,00 voor een jaar.

### **2. Sponsoring zwemclub Rug en Vlinder**

#### **Aanbieding**

- Plaatsing reclamebord bij het hoofdzwembad met vermelding daarop van het bedrijfslogo en de naam van de website van het bedrijf.
- Plaatsing van een advertentie van het bedrijf met vermelding naam website in het clubblad.
- Zwemmers / leden van de zwemclub en toeschouwers komen uitsluitend uit de stad zelf waarin de club gevestigd is.
- Kosten € 750,00 voor een jaar.

### **3. Sponsoring Tennisclub PPP**

#### **Aanbieding**

- Plaatsing reclamebord in een zaal met pingpongtafels waar de wedstrijden worden gespeeld met vermelding daarop van het bedrijfslogo en de naam van de website van het bedrijf.
- Spelers / leden van de tafeltennisclub en toeschouwers komen uitsluitend



uit de stad zelf waarin de club gevestigd is.  
- Kosten € 550,00 voor een jaar.

#### **4. Sponsoring Voetbalvereniging FC Bal Aanbieding**

- Plaatsing reclamebord langs het hoofdveld met vermelding daarop van het bedrijfslogo en de naam van de website van het bedrijf.
- Vermelding advertentie op website van de vereniging en in het clubblad.
- Plaatsing naam van de website van het bedrijf op de voetbalshirts (duidelijk leesbaar) van het D1 elftal (met 11 en 12 jarige spelers).
- Dit elftal speelt de wedstrijden in een groot deel van Nederland en trekt telkens veel toeschouwers (vooral veel ouders van spelers en andere familieleden).
- Kosten € 1.800,00 voor een jaar.

#### **Einde tekst**

Op welke van de vier aanbiedingen kan het bedrijf het beste ingaan om de naamsbekendheid van de website in een zo groot mogelijk gebied te vergroten?

- A) 1. De aanbieding van sponsoring tennisvereniging Topbal
- B) 2. De aanbieding van sponsoring zwemclub Rug en Vlinder
- C) 3. De aanbieding van sponsoring tafeltennisclub PPP
- D) 4. De aanbieding van sponsoring voetbalvereniging FC Bal



# Studievaardigheden – Woorden en woordvolgorde

## Alfabetische volgorde plaatsnamen I

### Vraag 74

#### Info:

Geen informatie beschikbaar.

In welke rij staan de plaatsnamen in de juiste (alfabetisch - lexicografische) volgorde?

- A) Almere - Almelo - Amstelveen - Amsterdam
- B) Almelo - Almere - Amsterdam - Amstelveen
- C) Almelo - Almere - Amstelveen - Amsterdam
- D) Amstelveen - Amsterdam - Almelo - Almere

## Alfabetische volgorde woorden I

### Vraag 75

#### Info:

We gaan nu woorden in de juiste alfabetische volgorde plaatsen.



Afbeelding 1: Woordenboeken.



Er is één rijtje die in de juiste alfabetische volgorde staat. Welk rijtje is dat?

- A) sportacademie - sportauto - sportjournaal - sportwedstrijd - sportzaal
- B) sportauto - sportacademie - sportjournaal - sportwedstrijd - sportzaal
- C) sportacademie - sportauto - sportjournaal - sportzaal - sportwedstrijd
- D) sportacademie - sportauto - sportwedstrijd - sportjournaal - sportzaal

### Vraag 76

Hieronder zie je ook weer rijtjes met woorden staan. Welk rijtje staat in de juiste alfabetische volgorde?

- A) muzikant - muziekafdeling - muziekblad - muzikleraar - muziklerares
- B) muziekafdeling - muziekblad - muziklerares - muzikleraar - muzikant
- C) muziekafdeling - muziekblad - muzikleraar - muziklerares - muzikant
- D) muzikleraar - muziklerares - muziekblad - muziekafdeling - muzikant

### Vraag 77

Kun je de woorden die hieronder staan zelf in alfabetische volgorde zetten? Zet de juiste antwoorden achter de letters a t/m f.

Antwoord 1

a) uitbeelden b) uitbloeien c) uitdagen d) uiterst e) uitgeslapen f) uitgezocht

Antwoord 2

a) uiterst b) uitbloeien c) uitgezocht d) uitbeelden e) uitgeslapen f) uitdagen

Antwoord 3

a) uitgeslapen b) uitbeelden c) uitdagen d) uiterst e) uitbloeien f) uitgezocht

Antwoord 4

a) uitdagen b) uitbloeien c) uitbeelden d) uiterst e) uitgeslapen f) uitgezocht

- A) Antwoord 1
- B) Antwoord 2
- C) Antwoord 3
- D) Antwoord 4



## Alfabetische volgorde woordenboek I

### Vraag 78

#### Info:

Sietske wil graag de betekenis weten van het woord 'nachtblind'. Hiervoor gaat ze zoeken in het woordenboek.



Afbeelding 1: Woordenboeken.

Tussen welke twee woorden in het woordenboek vinden we de betekenis van het woord 'nachtblind'?

- A) nachtaanval - *nachtblind* - nachttarief
- B) Naams - *nachtblind* - nacht
- C) nagelolie - *nachtblind* - namens
- D) naschrijven - *nachtblind* - nationaliteit



# Studievaardigheden – Kaartgebruik

## Kaartlezen kaart Sydney

### Vraag 117

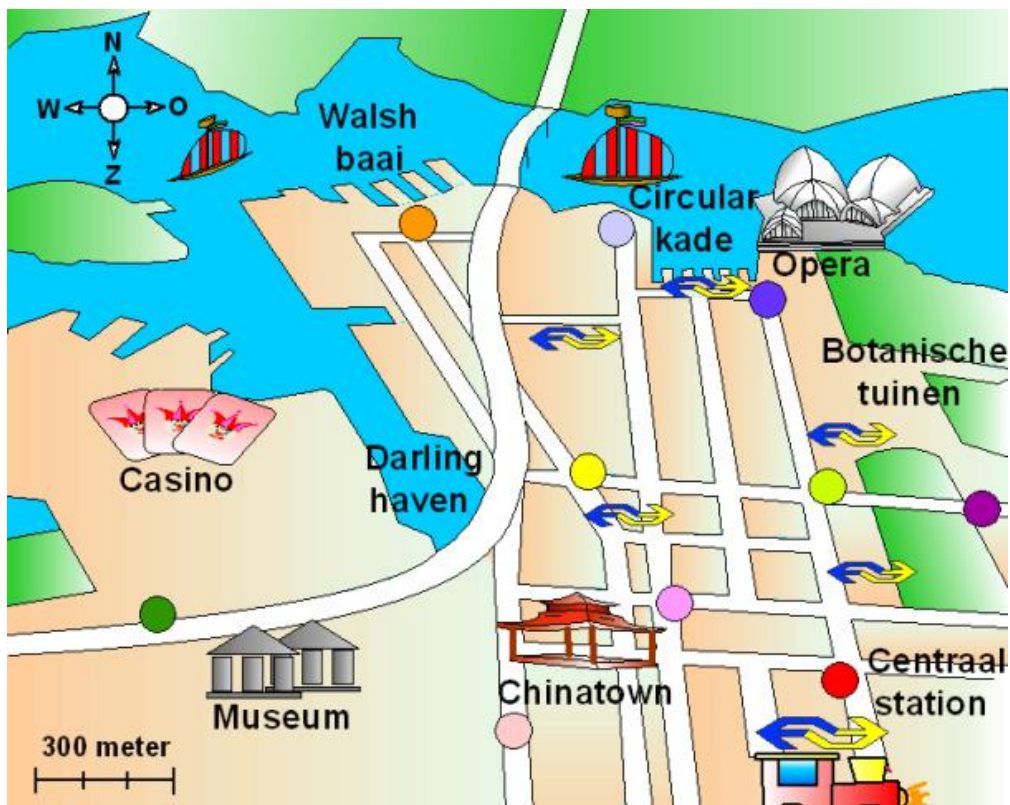
#### Info:

*Let op: kleuren kunnen afwijken, afhankelijk van de gebruikte monitor.*

Hieronder zien we een klein gedeelte van de stad Sydney.

Deze stad ligt in Australië.

Bekijk deze kaart eerst heel goed en beantwoord daarna pas de vragen.



Afbeelding 1: Een plattegrond van een klein gedeelte van de stad Sydney.



Op deze kaart zien we verschillende dingen, zoals een museum, het casino, het centraal station en zo zijn er nog een aantal dingen.

We zien op deze kaart ook verschillende kleuren rondjes staan.


En daar gaat de eerste vraag over.

Linda en Brit zijn samen aan het rondtrekken door Australië en ze zijn nu aan gekomen op het centraal station van Sydney.

Ze willen graag naar de Walsh baai om hier gezellig wat te gaan drinken en eten.

Vanaf het station huren ze een auto.

Langs welke gekleurde punten kunnen Linda en Brit het beste rijden om naar de Walsh baai te gaan? Natuurlijk willen ze niet helemaal omrijden, dus kies de snelste weg en de weg die het meest rechtstreeks naar de Walsh baai gaat.

Antwoord 1 = Langs de punten:    

Antwoord 2 = Langs de punten:    

Antwoord 3 = Langs de punten:    

Antwoord 4 = Langs de punten:    

- A) Antwoord 1
- B) Antwoord 2
- C) Antwoord 3
- D) Antwoord 4






## Vraag 118




### Info:

Als Linda en Brit wat gedronken en gegeten hebben bij de Walsh baai, willen ze hierna graag naar de Circular kade.

Welke gekleurde punten kunnen Linda en Brit nu het beste gaan volgen om hier te komen?

Let op! Nu willen ze ook weer de meest rechtstreekse weg waarbij ze niet helemaal om hoeven te rijden.

Antwoord 1 = Langs de punten:    .

Antwoord 2 = Langs de punten:    .

Antwoord 3 = Langs de punten:     .

Antwoord 4 = Langs de punten:     .

- A) Antwoord 1
- B) Antwoord 2
- C) Antwoord 3
- D) Antwoord 4

## Vraag 119

### Info:

Als ze eenmaal zijn aangekomen bij de Circular kade, besluiten Linda en Brit om hier een boottocht te gaan maken. Deze boottocht vaart naar de Darling haven. Bij de Darling haven krijgen de toeristen ongeveer 30 minuten de kans om hier uit te stappen om even wat te drinken of om even wat te winkelen.

Hoeveel meter is de boottocht ongeveer vanaf de Circular kade tot en met de Darling haven? Kies het antwoord dat er het dichtst bij in de buurt ligt.

- A) Ongeveer 300 meter
- B) Ongeveer 2000 meter
- C) Ongeveer 900 meter
- D) Ongeveer 1000 meter







## Vraag 120


### Info:


Als Linda en Brit weer terug zijn gevaren met de boot naar de Circular kade, besluiten ze om een paar mooie foto's te maken van de opera van Sydney. Ze willen wel het hele gebouw erop krijgen.

Bij welk gekleurde punt kunnen Linda en Brit het beste gaan staan, zodat het hele gebouw erop staat?

Antwoord 1 = Bij punt: .

Antwoord 2 = Bij punt: .

Antwoord 3 = Bij punt: .

Antwoord 4 = Bij punt: .

A) Antwoord 1

B) Antwoord 2

C) Antwoord 3

D) Antwoord 4



## Kaartlezen kaart Flevoland

### Vraag 121

#### Info:

We zien hieronder een afbeelding van Flevoland. Bekijk de afbeelding goed!



Op deze kaart zijn de steden en / of stedelijke gebieden (in Flevoland) met een oranje kleur aangegeven.

De kleinere plaatsen zijn aangegeven met zwarte puntjes.

Met de kleur groen zijn de bossen aangegeven en met de kleur rood zijn de belangrijke doorgaande wegen aangegeven.  
Een deel van de informatie is weggelaten!

Gebied 1 op de afbeelding, de Noordoostpolder, is eerder door de mens aangelegd dan gebied 3 op de afbeelding, Zuidelijk Flevoland.

De mensen waren, toen gebied 1 werd "gemaakt", nog lang niet zo mobiel als vandaag de dag.

Wat bedoelt men hier met "nog lang niet zo mobiel...".?

- A) Dat men niet in mobiele woningen leefde.
- B) Dat de mensen arm waren.
- C) De mensen konden gemakkelijk ver reizen.
- D) De mensen konden zich niet zo gemakkelijk verplaatsen dan tegenwoordig. Veel mensen hebben tegenwoordig een auto, toen niet.



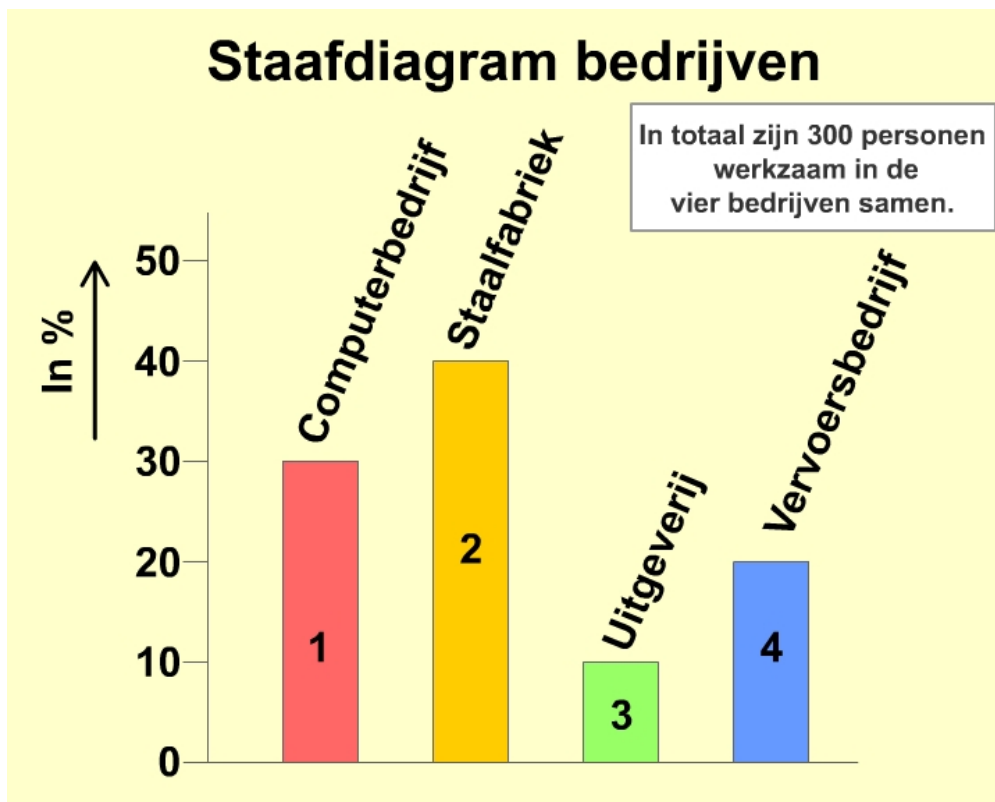
# Studievaardigheden – Grafieken, tabellen en diagrammen

## Personen werkzaam in bedrijven

Vraag 201

Info:

Bekijk bron 1.



Bron 1: Staafdiagram werkzame personen in vier verschillende bedrijven.

Bekijk bron 1 goed, beantwoord daarna de vragen.

- Het staafdiagram geeft in procenten aan wat de verdeling is van werkzame personen in vier verschillende bedrijven.



Tel je de procenten van de vier bedrijven bij elkaar op dan kom je uit op 100%.

- Het aantal werkzame personen in deze vier bedrijven samen is in totaal 300.

10% van de personen werkt bij de uitgeverij. Hoeveel personen zijn dat?

- A) Dat zijn 3 personen.
- B) Dat zijn 30 personen.
- C) Dat zijn 300 personen.
- D) Dat zijn 60 personen.

### Vraag 202

**Info:**

Bekijk bron 1.

Bij twee van de vier bedrijven werken in totaal 210 personen. Bij welke twee bedrijven werken in totaal 210 personen?

- A) Bij het computerbedrijf en de uitgeverij samen
- B) Bij de staalfabriek en het vervoersbedrijf samen
- C) Bij het computerbedrijf en de staalfabriek samen
- D) Bij de uitgeverij en het vervoersbedrijf samen

### Vraag 203

**Info:**

Bekijk bron 1.

In totaal werken 60 personen in een bepaald bedrijf.

Bij welk bedrijf werken in totaal 60 personen?

- A) Bij een computerbedrijf
- B) Bij een staalfabriek
- C) Bij een uitgeverij
- D) Bij een vervoersbedrijf



## Vraag 204

### Info:

Bekijk bron 1.

Welke van de volgende stellingen is de juiste?

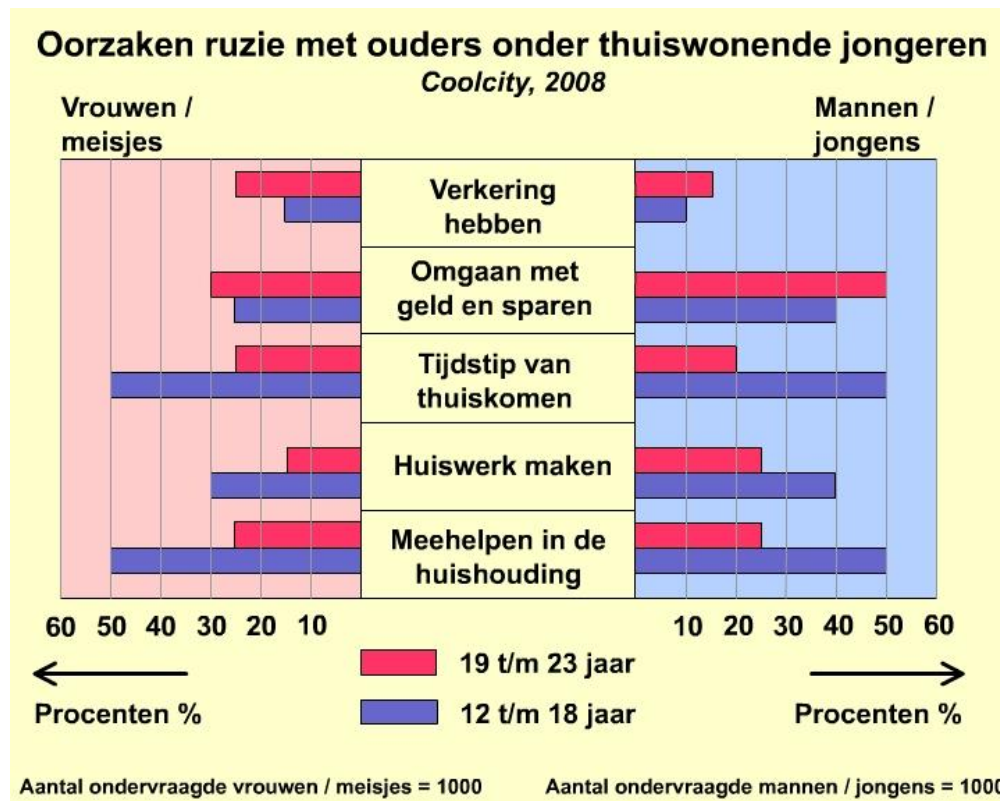
- A) Bij de uitgeverij werken vier keer zoveel personen als bij de staalfabriek.
- B) In de staalfabriek werken drie keer zoveel personen als bij het computerbedrijf.
- C) Bij het vervoersbedrijf werken twee keer zoveel personen als bij de staalfabriek.
- D) Bij het computerbedrijf werken drie keer zoveel personen als bij de uitgeverij.

## Oorzaken ruzie

## Vraag 205

### Info:

Bekijk bron 1.



Bron 1: Staafdiagram - Aanleiding voor problemen in de huishouding.



Er is een onderzoek geweest onder jongeren in Coolcity.  
Enkele van de uitkomsten zie je weergegeven in deze staafdiagram.

Hoeveel procent van de mannen / jongens in de leeftijdsgroep 12 t/m 18 jaar noemt als een oorzaak voor ruzie 'verkering hebben'?

- A) 10%**
- B) 15%**
- C) 20%**
- D) 25%**



*Citotoets, Entreetoets, LVS-toetsen -  
oefenen boeken set - groep 7+8  
Studievaardigheden  
Antwoorden en uitlegboek  
versie 1.0*

*Uitgave voor het basisonderwijs*



---

25-04-2016



---

## Verantwoording

*In dit oefenboek staan oefenopgaven voor studievoordigheden:*

- *Omgaan met informatie: Informatie verwerken (taal), Opzoeken (taal)*
- *Woorden: bronnen (taal), alfabetische volgorde (taal), woordenboek (taal)*
- *Metten en meetkunde: kaartgebruik (rekenen)*
- *Verbanden: grafieken (rekenen), tabellen (rekenen), diagrammen (rekenen)*

*Bij dit antwoorden en uitleg boek hoort een opgaven boek.*

Er wordt voor studievoordigheden geoefend op de referentieniveaus 1f en 1s. Met deze uitgave kan geoefend worden voor Studievoordigheden in groep 7 & 8. Wilt u het volledige oefenpakket gebruiken met meer onderwerpen, dan verwijzen wij u naar onze website, alwaar u een gebruiksrecht kunt aanschaffen voor een online oefenpakket:

Toetsendleren  Online



[www.toetsendleren.nl](http://www.toetsendleren.nl)

### Opmerkingen bij het gebruik van deze boeken set

- Voorbereiden op LVS-toetsen / Entreetoetsen / Citotoetsen  
De onderdelen van het vak Studievoordigheden zijn in de toetsen in groep 7 en 8 verdeeld over Rekenen en Taal.
- Voorbereiden op aparte LVS toetsen Studievoordigheden van CITO  
In de LVS toetsen in groep 7 en 8 van het Cito kan het zijn dat Studievoordigheden (ook) als zelfstandig vak apart getoetst wordt. Informeert u of deze toets(en) (ook nog) afzonderlijk afgenomen worden en of dit op uw school het geval is.

### Disclaimer en errata

De inhoud en / of onderwerpen van de Centrale Eindtoets - Cito Eindtoets, Entreetoets en / of LVS-toetsen kunnen gewijzigd zijn / worden door de makers van de toetsen. Informeert u bij uw school tijdig of dit het geval is en wat er veranderd is, zodat u goed op de hoogte bent wat wel en niet geoefend dient te worden in dit boek (voor uw zoon / dochter / leerling(en)).

Voor errata met correcties verwijzen wij u naar de site [www.toetsendleren.nl](http://www.toetsendleren.nl).

Redactie SM&C Internet Services bv - Toetsendleren.nl - Enschede  
april 2016.

---





---

De inhoudsopgave hoort bij de originele boeken set.

## Antwoorden en uitlegboek

### Inhoud

Studievaardigheden – Informatieverwerking .....	
Studievaardigheden – Woorden en woordvolgorde .....	
Studievaardigheden – Kaartgebruik .....	
Studievaardigheden – Grafieken, tabellen en diagrammen .....	

---



## Colofon

Uitgever : SM&C Internet Services BV, Enschede  
Projectleider : Dhr. O.H.M. Sanders

SM&C Internet Services BV

Postbus 40223

7504 RE Enschede

Telefoon : 053-4361626

E-mail : [info@smc.nl](mailto:info@smc.nl)

Web : [www.toetsendleren.nl](http://www.toetsendleren.nl) - [www.smc.nl](http://www.smc.nl)

## Druk en oplage

Eerste druk – eerste oplage.

Deze uitgave bestaat uit een opgaven boek en een antwoord/uitleg boek.

## Aanvullend

Niets uit deze uitgave mag worden verveelvoudigd en/of openbaar gemaakt door middel van druk, (digitale) kopie of op welke andere wijze ook, zonder voorafgaande toestemming van de uitgever.

© SM&C Internet Services BV, Enschede – 2016.




# Studievaardigheden – Informatieverwerking

## VAKANTIE NAAR FUERTEVENTURA

### Vraag 1

**Pagina uit een online reisgids 2008**

Accommodatie	Reissom (in mei)	Extra	Inbegrepen bij de reissom
	<b>Aantal dagen: 8</b>	★ ★ ★	
	<b>Prijs per persoon</b>	<b>Prijs per persoon</b>	
★	€ 900,-	€ 50,-	<ul style="list-style-type: none"><li>• Ligstoel</li><li>• Kinderanimatie</li><li>• Dagelijkse schoonmaak</li></ul>
<b>Hotel Miramar aan zee</b> 	★ ★	€ 75,-	<ul style="list-style-type: none"><li>• ★ ★ ★ ★</li><li>• Kinderanimatie</li><li>• Dagelijkse schoonmaak</li><li>• Ontbijt en avondeten</li><li>• Toegangsbewijs boottocht op zee</li></ul>

Bron 2: Pagina uit een online reisgids 2008.



## Pagina uit een online reisgids 2008

Accommodatie	Reissom (in mei)	Extra	Inbegrepen bij de reissom
	Aantal dagen: 8	☆☆☆	
	Prijs per persoon	Prijs per persoon	
Appartement Mar Costa aan zee	€ 900,-	€ 50,-	<ul style="list-style-type: none"><li>• Ligstoel</li><li>• Kinderanimatie</li><li>• Dagelijkse schoonmaak</li></ul>
Hotel Miramar aan zee	☆☆	€ 75,-	<ul style="list-style-type: none"><li>• ☆☆☆</li><li>• Kinderanimatie</li><li>• Dagelijkse schoonmaak</li><li>• Ontbijt en avondeten</li><li>• Toegangsbewijs boottocht op zee</li></ul>

Bron 3: Pagina uit een online reisgids 2008.

Een ster staat onder de kop 'Accommodatie'.

Dat betekent dat hier bijvoorbeeld een naam van een hotel, vakantiewoning, appartement of camping (met verblijf in een caravan of tent) kan staan.

Antwoord A is niet het juiste antwoord, want als je goed kijkt, zie je dat in de tabel 'Hotel Miramar aan zee' er al onder staat genoemd.

Antwoorden B en C zijn ook niet juist, want kindersanimatie en zon zijn geen accommodaties.

Een activiteit, zoals kindersanimatie hoort te staan in de laatste kolom. En zon krijgen we al gratis, waar we ook zijn.

Het juiste antwoord op de vraag is:  
D) Appartement Mar Costa aan zee.

**Antwoord: D**



## Vraag 2

Pagina uit een online reisgids 2008			
Accommodatie	Reissom (in mei)	Extra	Inbegrepen bij de reissom
	Aantal dagen: 8	☆☆☆	
	Prijs per persoon	Prijs per persoon	
Appartement Mar Costa aan zee	€ 900,-	€ 50,-	<ul style="list-style-type: none"><li>• Ligstoel</li><li>• Kinderanimatie</li><li>• Dagelijkse schoonmaak</li></ul>
Hotel Miramar aan zee	€ 1.300,-	€ 75,-	<ul style="list-style-type: none"><li>• ☆☆☆☆</li><li>• Kinderanimatie</li><li>• Dagelijkse schoonmaak</li><li>• Ontbijt en avondeten</li><li>• Toegangsbewijs boottocht op zee</li></ul>

Bron 4: Pagina uit een online reisgids 2008.

Twee sterren staan onder de kop 'reissom (in mei)'.

Dat betekent dat hier een bedrag hoort te staan. Antwoord A is direct het juiste antwoord.

Maar laten we nog even verder kijken.

Antwoord B zegt 'gratis in juni'.

Wat niet voor de hand ligt: natuurlijk zal een reisbureau niet zomaar een reis van acht dagen met gratis verblijf in een hotel weggeven. Daarnaast is deze reissom van toepassing in mei en niet in juni.

Antwoord C zegt '14 dagen'.

Maar dit is geen reissom (bedrag in €), dit is een periode. Ook niet het goede antwoord.

Antwoord D zegt 'Appartement Mar Costa aan zee'.

Dit is een accommodatie en geen reissom (bedrag in €).

Het juiste antwoord op de vraag is:

A) € 1.300,00.

**Antwoord: A**



### Vraag 3

Accommodatie	Reissom (in mei)	Extra	Inbegrepen bij de reissom
	Aantal dagen: 8	Per extra dag	
	Prijs per persoon	Prijs per persoon	
Appartement Mar Costa aan zee	€ 900,-	€ 50,-	<ul style="list-style-type: none"><li>• Ligstoel</li><li>• Kinderanimatie</li><li>• Dagelijkse schoonmaak</li></ul>
Hotel Miramar aan zee	€ 1.300,-	€ 75,-	<ul style="list-style-type: none"><li>• ★★★★★</li><li>• Kinderanimatie</li><li>• Dagelijkse schoonmaak</li><li>• Ontbijt en avondeten</li><li>• Toegangsbewijs boottocht op zee</li></ul>

Bron 5: Pagina uit een online reisgids 2008.

Drie sterren staan onder de kop 'Extra'.

Verder zie je nog staan 'Prijs per persoon' en achter Hotel Miramar aan zee zie je in die kolom ook een bedrag staan (€ 75,-).

Dus het zal iets te maken kunnen hebben met extra prijzen.

Antwoord A zegt 'Totale reissom' en dat is niet het goede antwoord. Er is al een aparte kolom waarin de totale reissom voor 8 dagen staat. Dan is het niet logisch dat hier de totale reissom komt te staan. En daarnaast is het bedrag ook wel erg laag om te dienen als totale reissom.

Antwoord B zegt 'Per extra dag'. Dit is het juiste antwoord. Want per extra dag betaal je € 50,- (appartement) of € 75,- (hotel) meer.

Antwoord C zegt 'Hotel met zwembad'. Dit antwoord is niet juist.





Antwoord D zegt 'Per extra periode van 14 dagen'.

Dit antwoord is fout.

Het is niet logisch dat je voor 14 dagen extra slechts € 50,- of € 75,- betaalt.

Dat zou wel erg weinig zijn en is niet voor de hand liggend, als je het vergelijkt met wat je voor 8 dagen betaalt.

Daarnaast staat er in de toelichting bij de tabel dat er geen sprake is van aanbiedingen. Al met al is het beste antwoord, antwoord B.

Het juiste antwoord op de vraag is:

B) Per extra dag.

**Antwoord: B**

#### Vraag 4

**Pagina uit een online reisgids 2008**

Accommodatie	Reissom (in mei)	Extra	Inbegrepen bij de reissom
	<i>Aantal dagen: 8</i>	Per extra dag	
	Prijs per persoon	Prijs per persoon	
Appartement Mar Costa aan zee	€ 900,-	€ 50,-	<ul style="list-style-type: none"><li>• Ligstoel</li><li>• Kinderanimatie</li><li>• Dagelijkse schoonmaak</li></ul>
Hotel Miramar aan zee	€ 1.300,-	€ 75,-	<ul style="list-style-type: none"><li>• Ligstoel</li><li>• Kinderanimatie</li><li>• Dagelijkse schoonmaak</li><li>• Ontbijt en avondeten</li><li>• Toegangsbewijs boottocht op zee</li></ul>

Bron 6: Pagina uit een online reisgids 2008.

De vier sterren staan onder de kop 'Inbegrepen bij de reissom'.

Dit betekent dat hier extra diensten / activiteiten staan die horen bij de reis.

Dat zit dus bij de reissom in.

Antwoord A zegt 'Hotel'.

Dit is niet goed, want dat staat al bij de kolom van de accommodatie aangegeven.

Antwoord B zegt 'Appartement'.



Ook niet goed, want dat staat al in de kolom accommodatie aangegeven.

Antwoord C zegt 'Ligstoel'.

Dat past wel goed in het rijtje en kan het juiste antwoord zijn.

Het gaat hier om extra diensten / activiteiten die bij de reissom zijn inbegrepen.

Maar laten we nog even kijken bij het laatste antwoord.

Antwoord D zegt 'Gratis'.

Dit is niet juist en ligt hier zeker niet voor de hand want boven de kolom staat al dat het bij de reissom is inbegrepen.

Het juiste antwoord op de vraag is:

C) Ligstoel.

**Antwoord: C**

## SPORTSPONSORING

### Vraag 5

Waar je met name op moet letten is:

- Het bedrijf wil de naamsbekendheid van de website (naam) in een zo groot mogelijk gebied stimuleren.
- Het elftal D1 van FC Bal speelt haar wedstrijden in een groot gebied, met veel bezoek van ouders van de spelers van 11 en 12 jaar en bijbehorende familie.
- Op de voetbalshirts die gebruikt worden door D1 van FC Bal staat duidelijk leesbaar vermeld de naam van de website van het bedrijf.
- Veel aandacht in de doelgroep op die manier dus in een groot gebied!
- Let ook op of de kosten passen in het beschikbare budget voor een jaar.
- De andere verenigingen hebben geen (sporters / spelers / leden en) publiek uit een groot gebied.

Het juiste antwoord op de vraag is:

D) 4. De aanbieding van Sponsoring voetbalvereniging FC Bal.

**Antwoord: D**





# Studievaardigheden – Woorden en woordvolgorde

## ALFABETISCHE VOLGORDE PLAATSNAMEN I

### Vraag 74

Het juiste antwoord op de vraag is:

C) Almelo - Almere - Amstelveen - Amsterdam.

**Antwoord: C**

## ALFABETISCHE VOLGORDE WOORDEN I

### Vraag 75

Het juiste antwoord op de vraag is:

A) sportacademie - sportauto - sportjournaal - sportwedstrijd - sportzaal.

**Antwoord: A**

### Vraag 76

Het juiste antwoord op de vraag is:

C) muziekafdeling - muziekblad - muziekleraar - muzieklerares - muzikant.

**Antwoord: C**

### Vraag 77

Het juiste antwoord op de vraag is:

A) Antwoord 1.

**Antwoord: A**

## ALFABETISCHE VOLGORDE WOORDENBOEK I

### Vraag 78

We gaan kijken naar de alfabetische volgorde van de letters in het woord 'nachtblind'.

Laten we beginnen bij oplossing A.

Dit was: nachtaanval - nachtblind - nachttarief.



We kunnen verder gaan kijken vanaf het woordje 'nacht' want dit woord komt in alle drie de woorden voor.

De volgende letter in het woord 'nachtblind' (wat na het woord 'nacht' komt) is de letter 'b'. De volgende letter in het woord nachtaanval, wat na 'nacht' komt is de letter 'a'.

Het klopt hierbij dat de letter 'b' na de letter 'a' komt.  
Dus het woord 'nachtblind' komt in elk geval na het woord 'nachtaanval'.

Het derde woord is het woord nachttarief.  
De volgende letter in het woord 'nachttarief', (wat na het woord 'nacht' komt) is de letter 't'. Achter de letter 'b' in het woord 'nachtblind' komt natuurlijk de letter 't' van nachttarief. Hierbij klopt het dus ook dat na het woord 'nachtblind' het woord 'nachttarief' komt. Deze oplossing lijkt dus te kloppen.

Laten we nu eens gaan kijken of er geen beter oplossing tussenzit.  
Want de letter 't' uit het woord 'nachttarief' ligt ver achter de letter 'b' uit het woord 'nachtblind'.  
Er kan dus misschien wel een betere oplossing zijn!

De tweede oplossing is  
Naams - nachtblind - nacht.

We zien hier dat de eerste twee letters al gelijk zijn aan elkaar. Namelijk de letters 'na'.

De derde letter in het woord 'Naams' is de letter 'a'.  
De derde letter in het woord 'nachtblind' is de letter 'c'.  
Het klopt dus, dat na het woord 'Naams' het woord 'nachtblind' kan komen.

Het derde woord is het woord 'nacht'. Verder komen er geen letters achter het woord 'nacht' en dat is wel het geval bij het woord 'nachtblind'.

Het kan dus nooit dat na het woord 'nachtblind' het woord 'nacht' komt in het woordenboek.  
Deze oplossing kan dus niet!

Laten we gaan kijken naar de derde oplossing.  
Deze is nagelolie - nachtblind - namens.

We zien hier ook weer dat de eerste twee letters al gelijk zijn aan elkaar. Namelijk de letters 'na'.

De derde letter in het woord 'nagelolie' is de letter 'g'.  
De derde letter in het woord 'nachtblind' is de letter 'c'.

De letter 'c' staat nog voor de letter 'g' als we het in alfabetische volgorde



zetten.

Het kan dus nooit dat voor het woord 'nachtblind' het woord 'nagelolie' staat in het woordenboek.

Bij deze oplossing hoeven we al niet verder te kijken naar het derde woord, omdat we bij het eerste woord er al achter kwamen dat deze twee woorden niet in alfabetische volgorde staan!

Dan gaan we nog kijken naar de vierde oplossing.  
Deze is naschrijven - nachtblind - nationaliteit.

We zien hier ook weer dat de eerste twee letters al gelijk zijn aan elkaar. Namelijk de letters 'na'.

De derde letter in het woord 'naschrijven' is de letter 's'.

De derde letter in het woord 'nachtblind' is de letter 'c'.

De letter 'c' staat nog voor de letter 's' als we het in alfabetische volgorde zetten.

Ook hierbij kan het dus nooit zo zijn dat voor het woord 'nachtblind' het woord 'naschrijven' staat in het woordenboek.

*Ook bij deze oplossing hoeven we niet verder te kijken naar het derde woord, omdat we bij het eerste woord er al achter kwamen dat deze twee woorden niet in alfabetische volgorde staan!*

Nu weten we zeker dat het juiste antwoord moet zijn nachtaanval - nachtblind - nachttarief.

Het juiste antwoord op de vraag is:

A) nachtaanval - *nachtblind* - nachttarief.

**Antwoord: A**



# Studievaardigheden – Kaartgebruik

## KAARTLEZEN KAART SYDNEY

### Vraag 117



Afbeelding 2: De stad Sydney ligt in Australië.

Als Linda en Brit langs deze gekleurde punten rijden zijn ze het snelst en het meest rechtstreeks bij de Walsh baai.

Het juiste antwoord op de vraag is:

B) Antwoord 2.

**Antwoord: B**

### Vraag 118

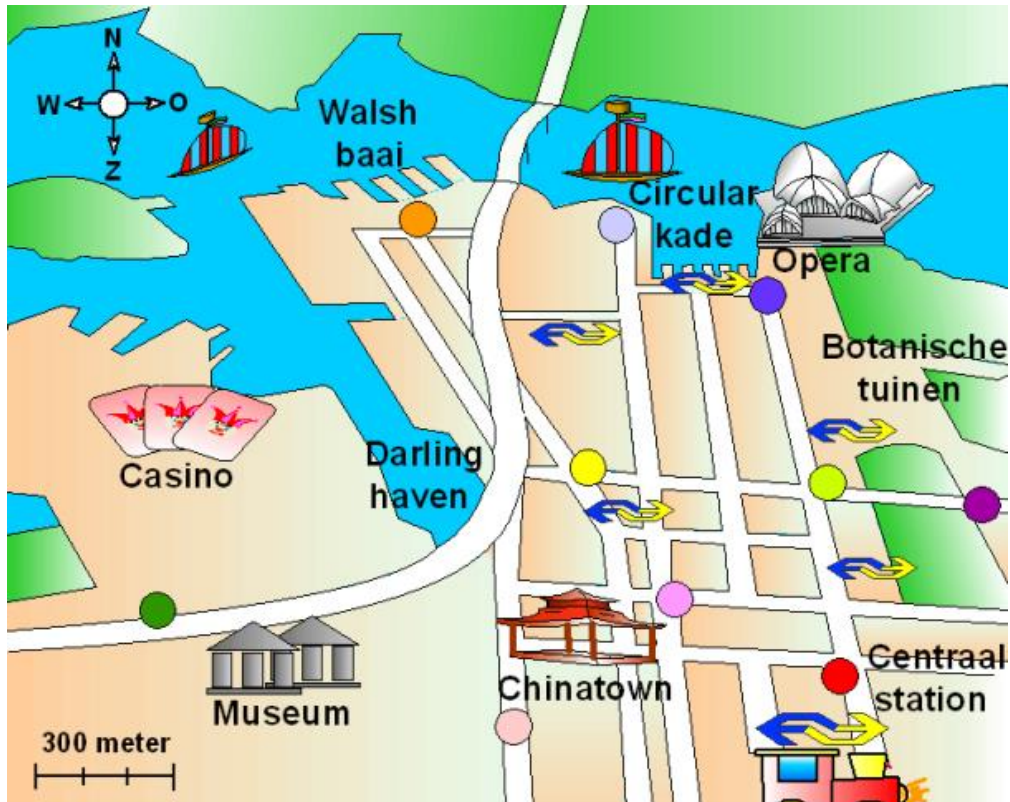
Het juiste antwoord op de vraag is:

A) Antwoord 1.

**Antwoord: A**



## Vraag 119



Afbeelding 3: De stad Sydney ligt in Australië.

Links onderaan de kaart zien we een lijntje staan, waarbij 300 meter staat. Dit betekent dus dat de lengte van deze lijn gelijk is aan 300 meter.

Wanneer we onze liniaal pakken en de weg vanaf de Circular kade tot aan de Darling haven opmeten, komen we erachter dat de boottocht ongeveer 2000 meter is.

Je mag hier natuurlijk wel iets van afwijken, als je er maar in de buurt komt bij die 2000 meter, dan zit je goed.

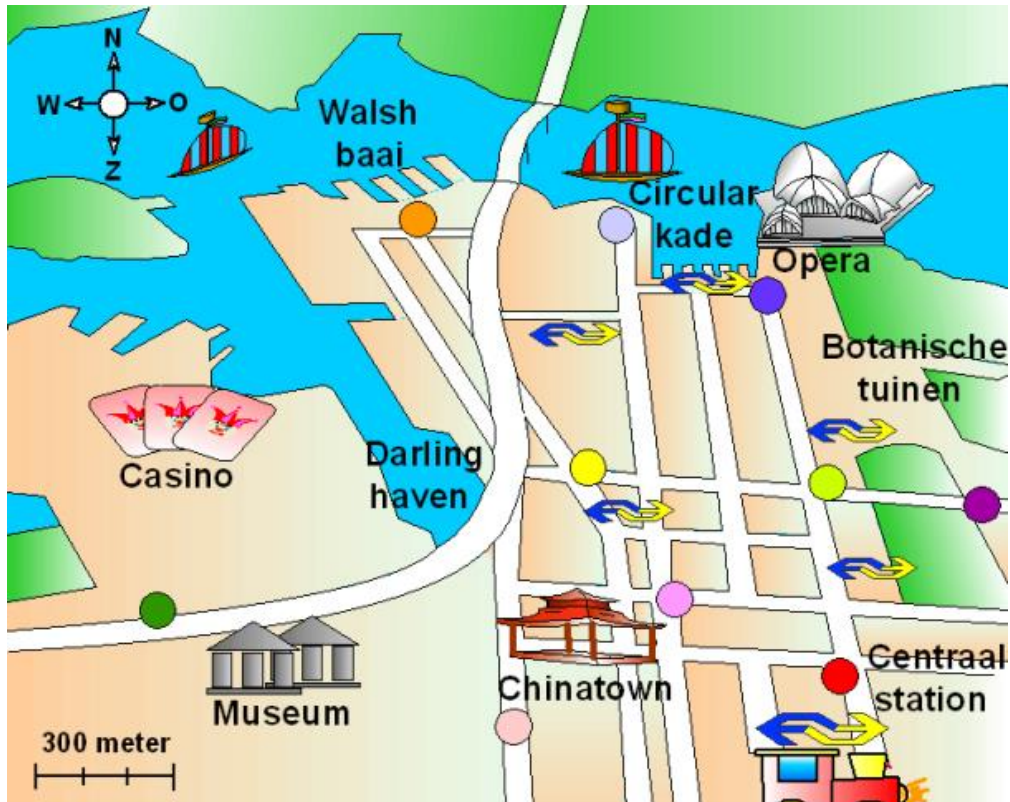
Het juiste antwoord op de vraag is:

B) Ongeveer 2000 meter.

**Antwoord: B**



## Vraag 120



Afbeelding 4: De stad Sydney ligt in Australië.

We beginnen bij punt ●.

Dat is bij de Walsh baai. Als Linda en Brit hier gaan staan, dan hebben ze waarschijnlijk nog allerlei gebouwen, bomen en wegen voor zich staan. Daarnaast is de afstand vanaf de Walsh kade tot aan de opera ongeveer 600 meter en dat is te ver om er een goede foto van te maken.

Laten we dan nu gaan kijken bij punt ●.

Ook hier sta je weer te ver weg van het operagebouw, waardoor je dus ook weer allerlei gebouwen, bomen en andere dingen voor je hebt staan, en daar kun je niet overheen fotograferen.

Dan punt ●.

Je staat hier ongeveer bij de Botanische tuinen. Hier krijg je ook weer te maken met plantengroei en boomgroei. Hier kun je ook niet overheen fotograferen. Daarnaast sta je ook wel weer ver weg vanaf het operagebouw.

Dan punt ●.





Hier sta je bij de Circular kade en je kijkt via het water recht op het operagebouw. De afstand is ongeveer 300 meter, waardoor je het hele gebouw wel op de foto kunt krijgen.

Natuurlijk moet je wel een goede camera hebben.

Daarnaast heb je ook geen hinder van gebouwen en plantengroei. Het enige waar je niet overheen zou kunnen fotograferen zijn de boten, maar de varen er wel langs. Behalve als ze stil blijven staan natuurlijk. Het juiste antwoord is dus punt .

Het juiste antwoord op de vraag is:

D) Antwoord 4.

**Antwoord: D**

## KAARTLEZEN KAART FLEVOLAND

### Vraag 121

Gebied 1 op de afbeelding, de Noordoostpolder, is eerder door de mens aangelegd dan gebied 3 op de afbeelding, Zuidelijk Flevoland. De mensen waren, toen gebied 1 werd "gemaakt", nog lang niet zo mobiel als vandaag de dag.

Antwoord A is niet echt een logisch antwoord, het is zelfs een beetje een raar antwoord. Dit kan dus ook niet het juiste antwoord zijn.

Antwoord B kan ook niet het juiste antwoord zijn. De mensen waren in die tijd wel arm(er), maar dit is niet het juiste antwoord.

Antwoord C is ook niet het antwoord dat we zoeken. De mensen konden toen niet gemakkelijk verre afstanden afleggen. Daarom is dit ook niet het juiste antwoord..

Dan blijft alleen nog antwoord D over en dit is dan ook het juiste antwoord. De mensen konden zich toentertijd niet gemakkelijk verplaatsen.

Tegenwoordig hebben veel mensen een auto, maar dat hadden ze toen nog niet. Daarom is dit ook het goede antwoord.

Het juiste antwoord op de vraag is:

D) De mensen konden zich niet zo gemakkelijk verplaatsen dan tegenwoordig. Veel mensen hebben tegenwoordig een auto, toen niet.

**Antwoord: D**



# Studievaardigheden – Grafieken, tabellen en diagrammen

## PERSONEN WERKZAAM IN BEDRIJVEN

### Vraag 201

Voordat we aan de beantwoording gaan beginnen is het belangrijk om een paar dingen te weten...

- De verdeling is gegeven in **procenten**, dus wanneer je de procenten van de staven bij elkaar optelt kom je uit op... 100%.

Computerbedrijf 30% + Staalfabriek 40% + Uitgeverij 10% + Vervoersbedrijf 20%  
Is samen 100%.

- Die 100% gaat in totaal over 300 werkzame personen in deze vier bedrijven samen.

Dus 100% = 300 werkzame personen!

Dan gaan we nu het antwoord doornemen.

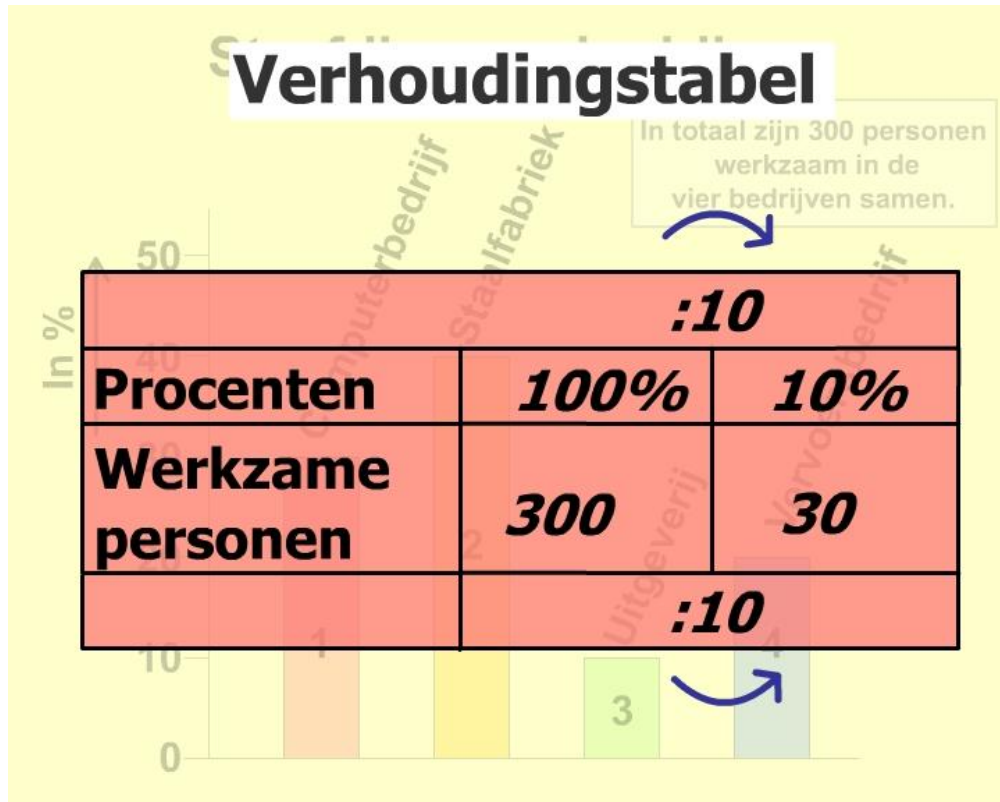
De vraag is:

10% van de personen werkt bij de uitgeverij.

Hoeveel personen zijn dat?

Je weet dus nu dat het gaat om 10% van 300. We kunnen dit in een verhoudingstabel zetten.





Bron 2: Verhoudingstabel.

Je weet dat 300 personen 100% is.  
Van die 100% maken we 10%.  
Dus moeten we die 100% delen door 10.

Als we dat boven doen, dan moeten we dat onder ook doen: 300 gedeeld door 10 is 30.

Dan komen we direct bij het juiste antwoord.

Het juiste antwoord op de vraag is:  
B) 30 personen.

**Antwoord: B**

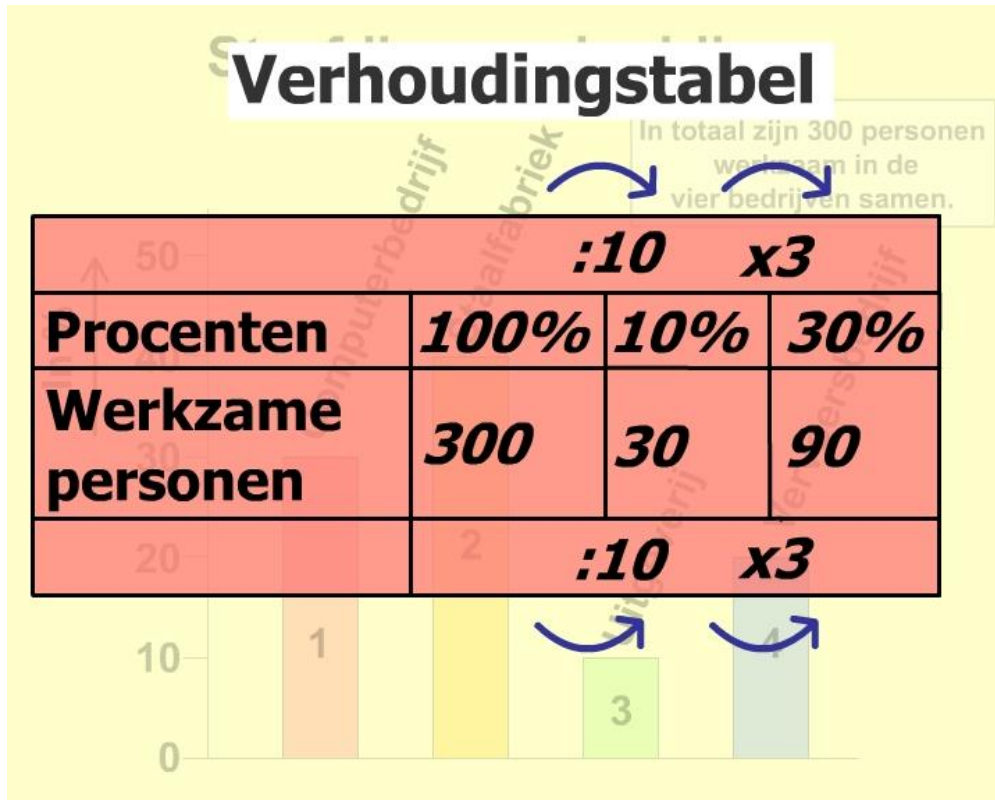
### Vraag 202

Voordat we de vraag gaan beantwoorden, gaan we eerst eens even uitrekenen hoeveel personen nu bij elk bedrijf werken...

Hiervoor gaan we bij elk bedrijf een verhoudingstabel maken, om er achter te komen hoeveel personen er werken.

Het computerbedrijf: 30% van de personen werkt bij het computerbedrijf.

Je weet dus nu dat het gaat om 30% van 300 personen. We kunnen dit in een verhoudingstabel zetten.



Bron 3: Verhoudingstabel.

Je weet dat 300 personen 100% is.  
Van die 100% maken we eerst 10%.  
Dat is makkelijker bij het berekenen.  
Dus moeten we die 100% delen door 10.

Als we dat boven doen, dan moeten we dat onder ook doen: 300 gedeeld door 10 is 30.

Nu moeten we van die 10% nog 30% maken.

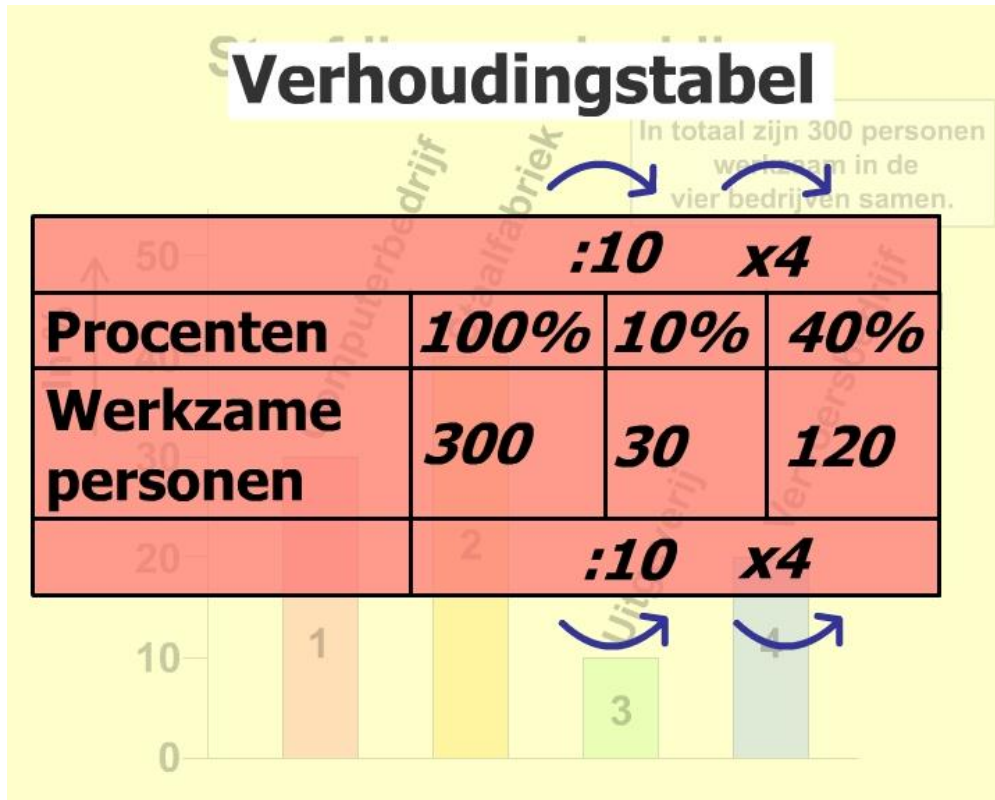
Dus moeten we maal 3 doen, om aan die 30% te komen, zowel boven als onder.

Dan komen we aan 90 personen die werken bij het computerbedrijf.

De staalfabriek:

40% van de personen werkt bij de staalfabriek.

Je weet dus nu dat het gaat om 40% van 300 personen. We kunnen dit in een verhoudingstabel zetten.



Bron 4: Verhoudingstabel.

Je weet dat 300 personen 100% is.  
Van die 100% maken we eerst 10%.  
Dat is makkelijker bij het berekenen.

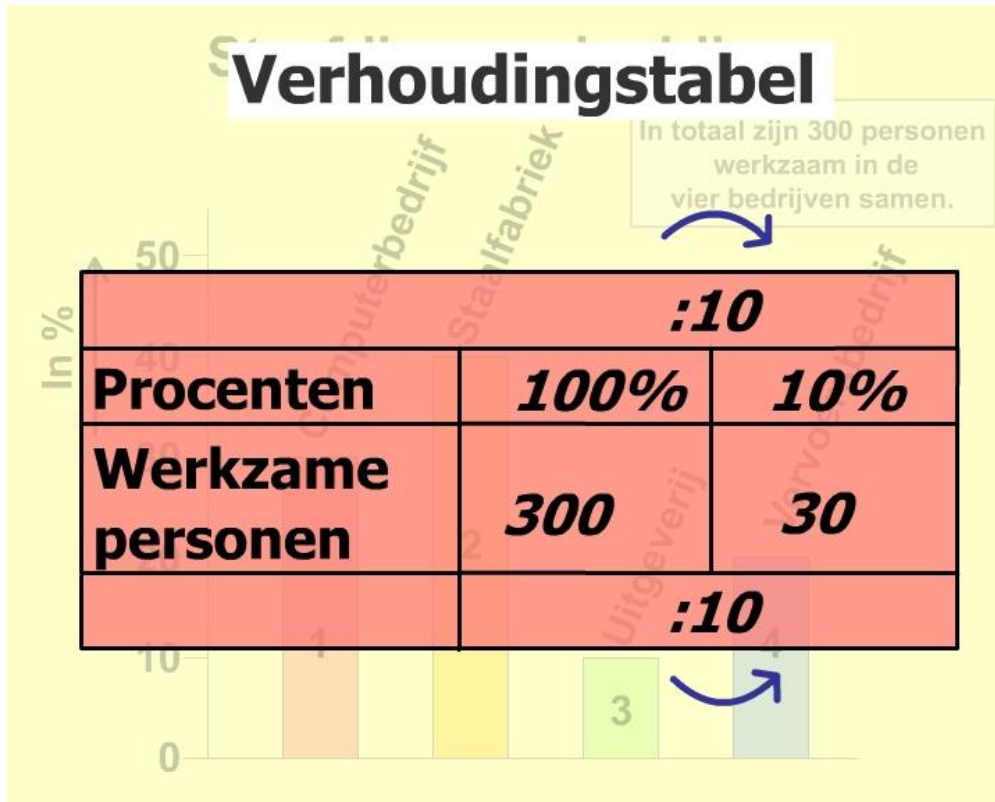
Dus moeten we die 100% delen door 10.

Als we dat boven doen, dan moeten we dat onder ook doen: 300 gedeeld door 10 is 30.  
Nu moeten we van die 10% nog 40% maken.

Dus moeten we maal 4 doen, om aan die 40% te komen, zowel boven als onder.  
Dan komen we aan 120 personen die werken bij de staalfabriek.

De uitgeverij: Deze hadden we al berekend bij vraag 1.  
We zullen de berekening hier nogmaals onder zetten.

Bij de uitgeverij werkt 10% van de personen. Je weet dus nu dat het gaat om 10% van 300. We kunnen dit in een verhoudingstabel zetten.



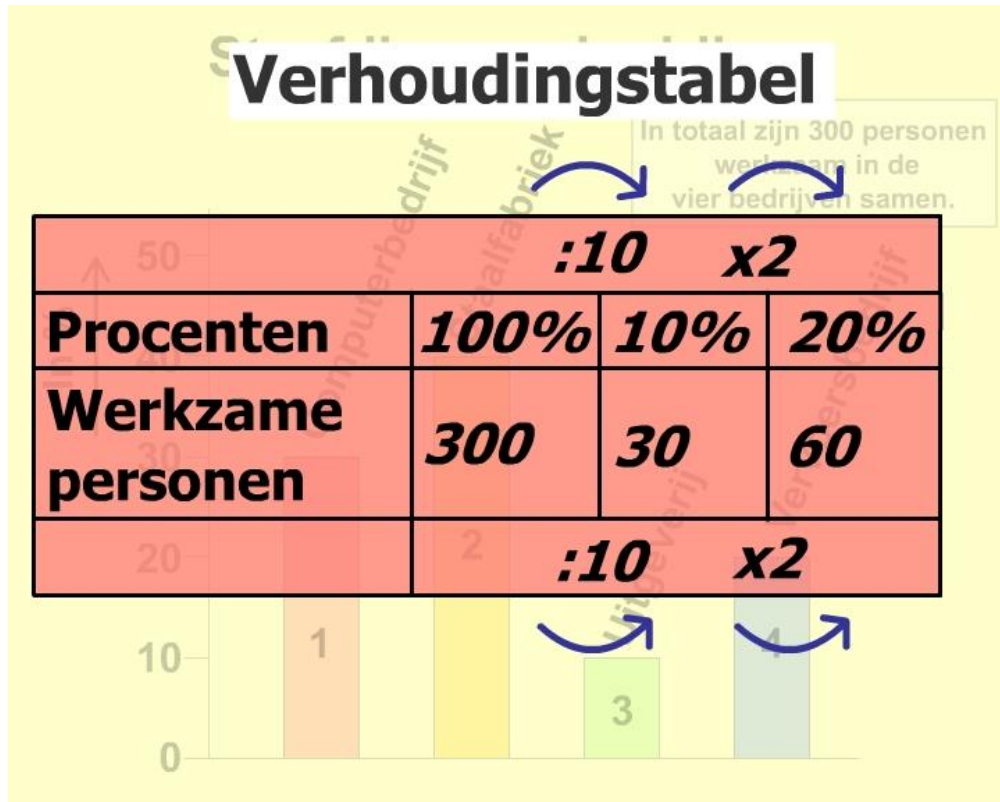
Bron 5: Verhoudingstabel.

Je weet dat 300 personen 100% is.

Van die 100% maken we 10%. Dus moeten we die 100% delen door 10.

Als we dat boven doen, dan moeten we dat onder ook doen: 300 gedeeld door 10 is 30.

Het vervoersbedrijf: 20% van de personen werkt bij het vervoersbedrijf. Je weet dus nu dat het gaat om 20% van 300 personen. We kunnen dit in een verhoudingstabel zetten.



Bron 6: Verhoudingstabel.

Je weet dat 300 personen 100% is.  
Van die 100% maken we eerst 10%.  
Dat is makkelijker bij het berekenen.  
Dus moeten we die 100% delen door 10.

Als we dat boven doen, dan moeten we dat onder ook doen: 300 gedeeld door 10 is 30.

Nu moeten we van die 10% nog 20% maken.

Dus moeten we maal 2 doen, om aan die 20% te komen, zowel boven als onder.

Dan komen we aan 60 personen die werken bij de staalfabriek.

Nog even op een rijtje: Bij het computerbedrijf werken: 90 personen.

Bij de staalfabriek werken: 120 personen.

Bij de uitgeverij werken: 30 personen. Bij het vervoersbedrijf werken: 60 personen.

Dan komen we nu bij het antwoord.

De vraag was 'Bij welke twee bedrijven werken in totaal 210 personen?'

Wanneer we het aantal personen van het computerbedrijf en de staalfabriek



bij elkaar optellen ( $90 + 120$ ) komen we op 210 personen.

Het juiste antwoord op de vraag is:

C) Bij het computerbedrijf en de staalfabriek samen.

**Antwoord: C**

### Vraag 203

We hebben net bij vraag 202 uitgerekend hoeveel personen werken bij ieder bedrijf.

Bij het computerbedrijf werken: 90 personen.

Bij de staalfabriek werken: 120 personen.

Bij de uitgeverij werken: 30 personen.

Bij het vervoersbedrijf werken: 60 personen.

Het juiste antwoord op de vraag is:

D) Bij een vervoersbedrijf.

**Antwoord: D**

### Vraag 204

Doordat we net hebben uitgerekend bij vraag 202 hoeveel personen werken bij ieder bedrijf, kunnen we de stelling ook beter nalopen om te kijken of ze wel of niet kloppen.

Maar je kunt ook gebruik maken van de procenten.

Bij het computerbedrijf werken: 90 personen (30%).

Bij de staalfabriek werken: 120 personen (40%).

Bij de uitgeverij werken: 30 personen (10%).

Bij het vervoersbedrijf werken: 60 personen (20%).

Laten we kijken naar de eerste stelling: A. Bij de uitgeverij werken vier keer zoveel personen als bij de staalfabriek.

Bij de uitgeverij werken 30 personen (10%).

Bij de staalfabriek werken 120 personen (40%).

Dit antwoord is niet juist.

De tweede stelling: B. In de staalfabriek werken drie keer zoveel personen als bij het computerbedrijf.

In de staalfabriek werken 120 personen (40%).

Bij het computerbedrijf werken 90 personen (30%).

Dit kan nooit drie keer zoveel zijn.

Dit antwoord is niet juist.





De derde stelling: C. Bij het vervoersbedrijf werken twee keer zoveel personen als bij de staalfabriek.

Bij het vervoersbedrijf werken 60 personen (20%).  
Bij de staalfabriek werken 120 personen (40%).  
Dit antwoord is niet juist.

De vierde stelling: D. Bij het computerbedrijf werken drie keer zoveel personen als bij de uitgeverij.

Bij het computerbedrijf werken 90 personen (30%).  
Bij de uitgeverij werken 30 personen (10%).  
Dit antwoord klopt.

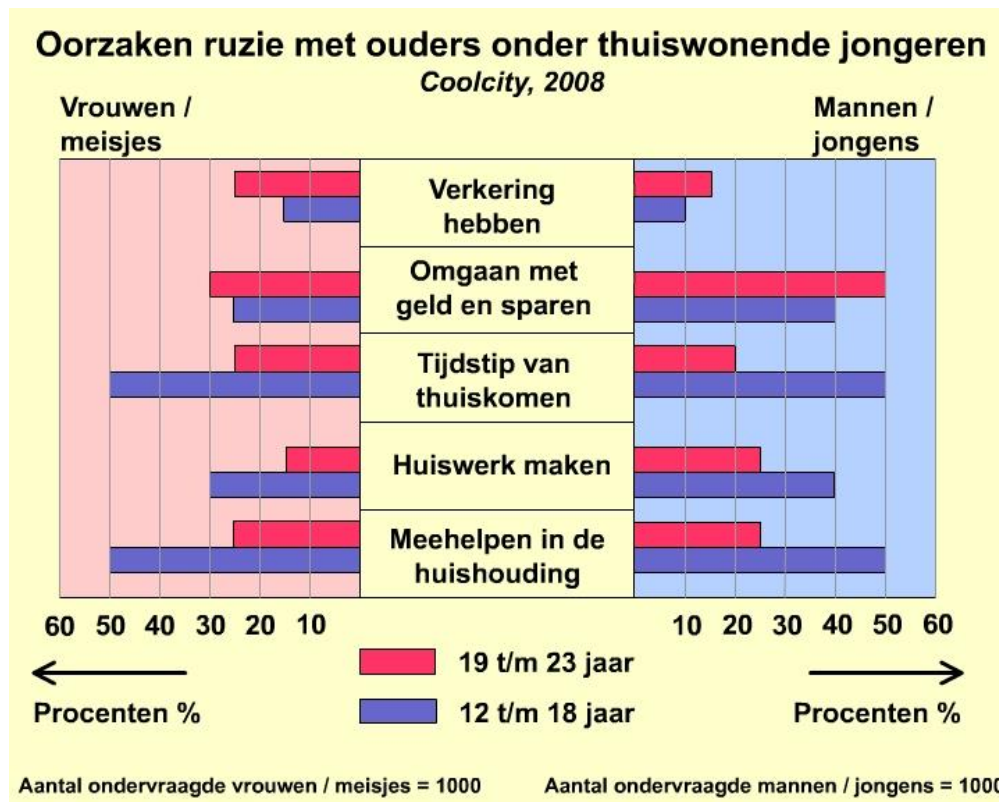
Het juiste antwoord op de vraag is:

D) Bij het computerbedrijf werken drie keer zoveel personen als bij de uitgeverij.

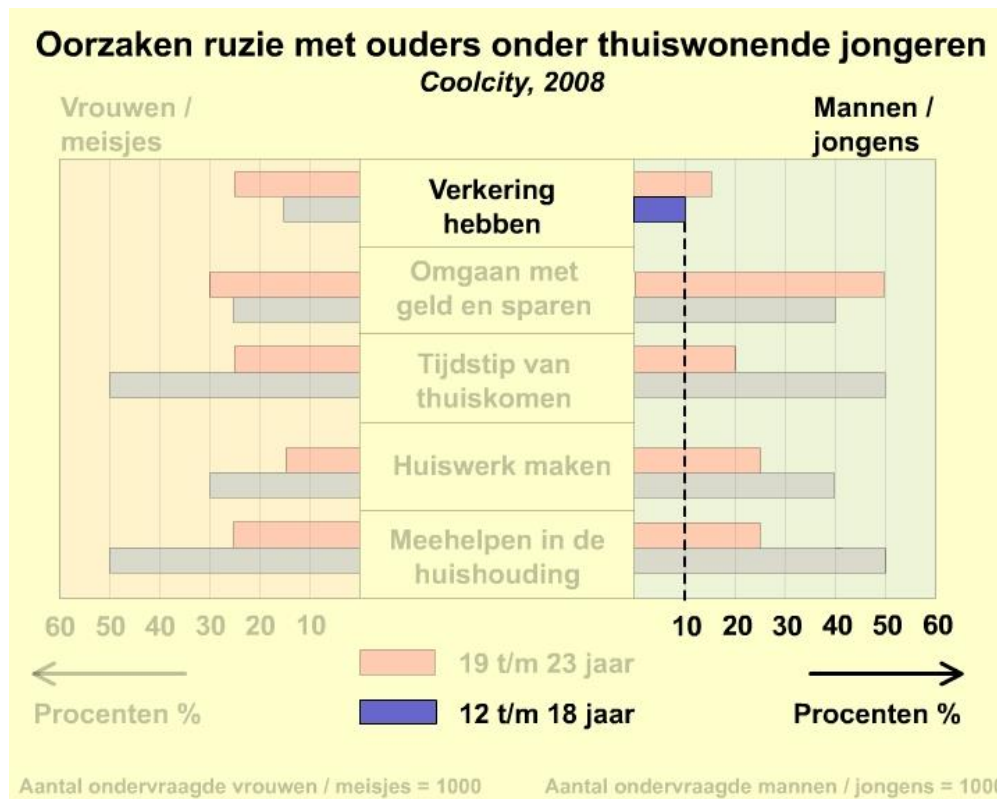
**Antwoord: D**

## OORZAKEN RUZIE

### Vraag 205



Bron 2: Staafdiagram - Aanleiding voor problemen in de huishouding.



Bron 3: Deel van de staafdiagram - Aanleiding voor problemen in de huishouding.

- Kijk in de staafdiagram naar het rechtergedeelte.
- Kijk bij het onderwerp 'verkering hebben'.
- Het gaat om de groep 12 t/m 18 jaar.
- Lees vervolgens onderaan af dat het gaat om 10%.

Het juiste antwoord op de vraag is:

A) 10%.

**Antwoord: A**