



HOEVEEL MUTSEN?

Er zijn zeven vogels. Elke vogel draagt een muts.

Hoeveel mutsen tel je in totaal?

Maak een tekening die je helpt om het probleem op te lossen.

FICIMPORE SIN REM

Boris wil gaan wandelen met zijn honden.
Boris heeft drie honden. En hij heeft twee leibanden.
Is er een leiband voor iedere hond?



Teken de honden

1

2

3

4

5

Teken de leibanden

1

2

3

4

5

Omcirkel het juiste antwoord

JA

NEEN



VRAAGSTUK:

Er zijn negen zonnebloemen. Elke zonnebloem heeft 1 blad.
Hoeveel blaadjes tel je in totaal?



WAT WEET JE?

Je hebt ... zonnebloemen.
Trek een cirkel rond het juiste aantal.


1 2 3 4 5

6 7 8 9 10



HOE LOS JE HET OP?

Teken de blaadjes aan de bloemen.



WAT IS DE OPLOSSING?

Hoeveel blaadjes tel je in totaal?


1 2 3 4 5 6 7 8 9 10



ORIS ET AMUS ERSPICI ISCIAS

Ida geeft een verjaardagsfeestje. Ze nodigt 6 vriendjes uit.

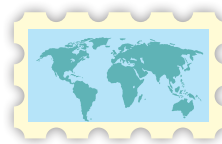
Voor iedere uitnodiging heeft ze een kaart, een envelop en een postzegel nodig.



kaart



envelop



postzegel

Dit zijn de spullen die Ida heeft.
Kan ze al haar vriendjes een kaart sturen?



Omcirkel het juiste antwoord

JA

NEEN




PARUNT, SUSCIATE NIT, SUNT VELIBUS

Kijk naar het voorbeeld en ga dan zelf aan de slag.

VOORBEELD

Elke stift heeft een dopje. Hoeveel dopjes hebben deze stiften in totaal?



EN NU JIJ!

In elk glaasje limonade zit een schijfje citroen.
Hoeveel schijfjes citroen tel je in totaal?

1 2 3 4 5 6 7 8 9 10

