


Inhoudsopgave

1.	Getallen	7
	<i>Getallen splitsen</i>	8
	<i>Getallenlijn</i>	12
	<i>Verder- en terugtellen</i>	15
	<i>Plaatjessommen</i>	18
2.	Optellen en aftrekken	29
	<i>Optellen</i>	30
	<i>Aftrekken</i>	33
	<i>Plaatjessommen</i>	35
3.	Vermenigvuldigen en delen	47
	<i>Plaatjessommen</i>	48
4.	Rekenen met geld	57
	<i>Plaatjessommen</i>	58
5.	Metten en klokkijken	65
	<i>Plaatjessommen</i>	66
6.	Alles door elkaar	73
	<i>Plaatjessommen</i>	74




In een rol drop zitten 13 dropjes. Frank heeft er 3 opgegeten en hij heeft er 2 aan Demi gegeven. Hoeveel dropjes zijn er nog over ?

..... dropjes


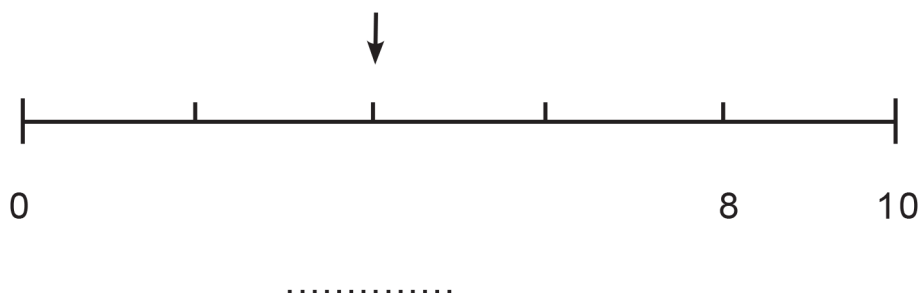
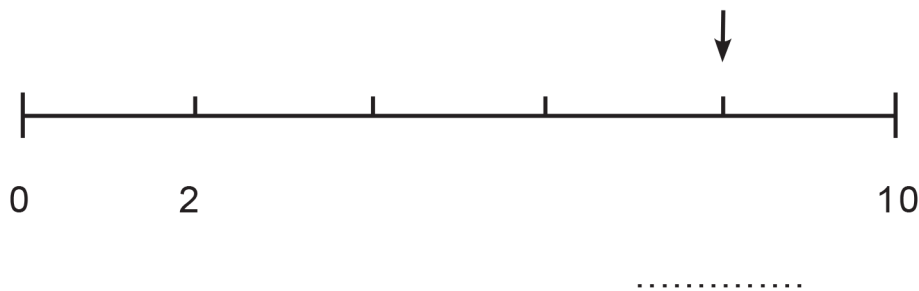
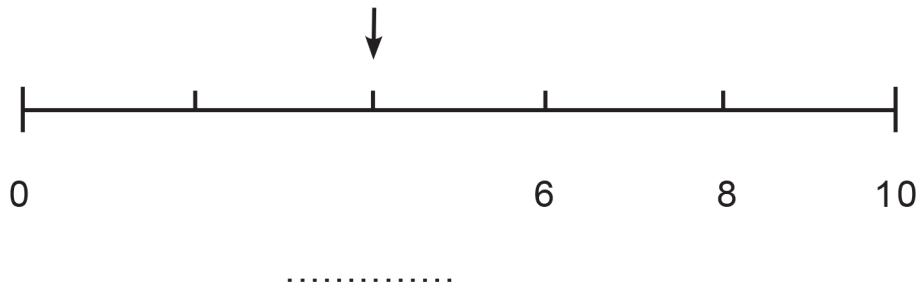
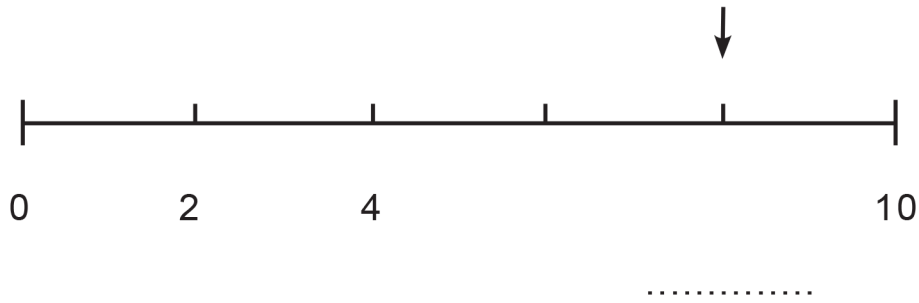



Jack, Laura en Mike zijn samen 18 jaar. Jack is 3 jaar en Laura is 5 jaar. Hoe oud is Mike ?

..... jaar



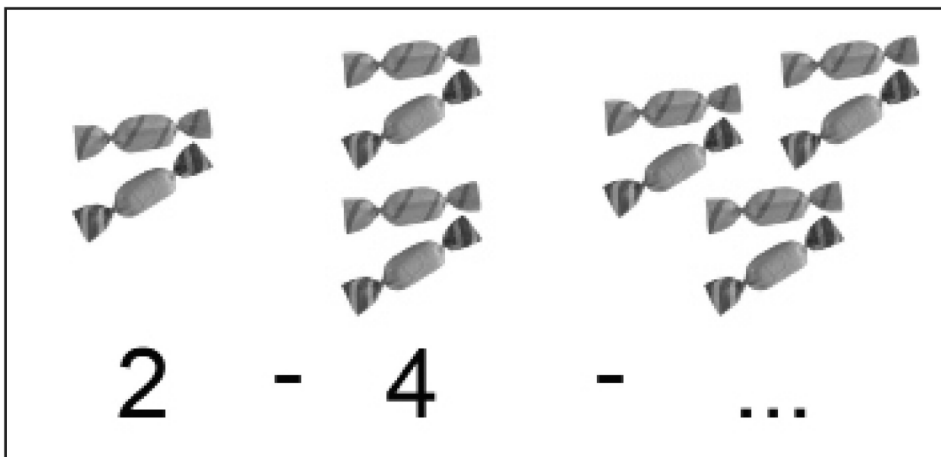
Vul het getal bij de pijl in





De zak is gevuld met 8 chocolaatjes. Er zitten 2 chocoladerepen in de zak. Hoeveel andere chocolaatjes zitten er in de zak ?

..... chocolaatjes



Tel de snoepjes verder. $2 - 4$

