

Topografie Nederland

Leer- en oefenboek (1)



Inhoudsopgave

Nederland 4

Noord-Nederland 20

Oost-Nederland 26

Zuid-Nederland 32

West-Nederland 38

Bekende plekken 44

Laat het zien 46

Antwoorden 47

Nederland: provincies



Provincies

Drenthe
Flevoland
Friesland

Gelderland
Groningen
Limburg

Noord-Brabant
Noord-Holland
Overijssel

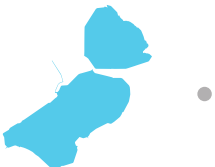
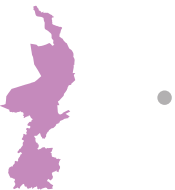
Utrecht
Zeeland
Zuid-Holland

1 Vul de namen op de goede plek in.

1. _____
2. _____
3. _____
4. _____
5. _____
6. _____

7. _____
8. _____
9. _____
10. _____
11. _____
12. _____

2 Welke provincies zie je? Trek een lijn van de provincie naar de juiste naam.



Drenthe

Flevoland

Friesland

Gelderland

Groningen

Limburg

Noord-Holland

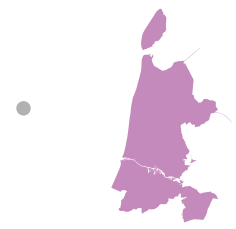
Noord-Brabant

Overijssel

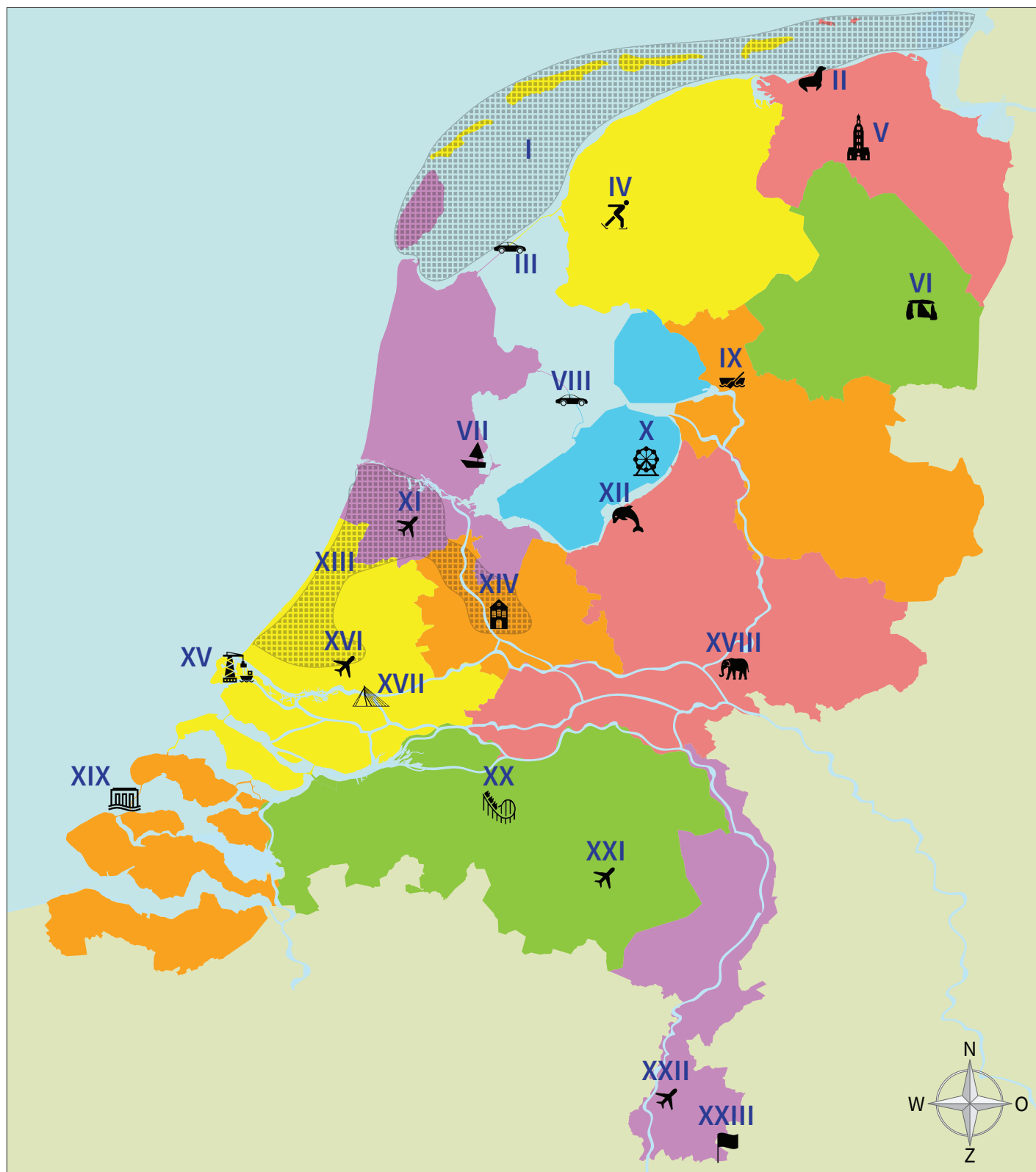
Utrecht

Zeeland

Zuid-Holland



Nederland: bekende plekken



Afsluitdijk
Burgers Zoo
Deltawerken Neeltje
Jans
Dolfinarium
Domtoren
Drielandenpunt

Efteling
Eindhoven Airport
Elfstedentocht
Erasmusbrug
Giethoorn
Haven van Rotterdam
Hunebedden

Maastricht Airport
Markerwaarddijk
Martinitoren
Randstad
Rotterdam Den Haag
Airport
Schiphol

Volendam
Waddengebied
Walibi Holland
Zeehondencentrum
Pieterburen

1 Vul de namen op de goede plek in.

- I. _____
- II. _____
- III. _____
- IV. _____
- V. _____
- VI. _____
- VII. _____
- VIII. _____
- IX. _____
- X. _____
- XI. _____
- XII. _____
- XIII. _____
- XIV. _____
- XV. _____
- XVI. _____
- XVII. _____
- XVIII. _____
- XIX. _____
- XX. _____
- XXI. _____
- XXII. _____
- XXIII. _____

2 Beantwoord de vragen.

Welke twee provincies worden verbonden door de Afsluitdijk?

- 1. _____
- 2. _____

In welke vier provincies vind je een vliegveld op deze kaart?

- 1. _____
- 2. _____
- 3. _____
- 4. _____

Welke twee provincies worden verbonden door de Markerwaarddijk?

- 1. _____
- 2. _____

Bij welke drie provincies horen Wadden?

- 1. _____
- 2. _____
- 3. _____

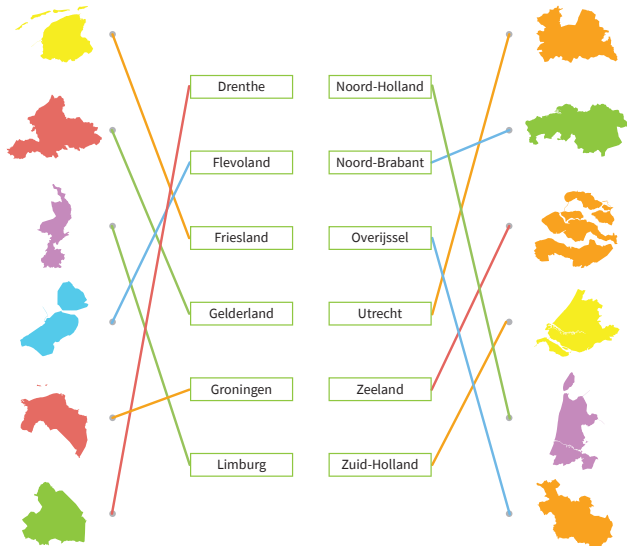
In welke drie provincies ligt de Randstad?

- 1. _____
- 2. _____
- 3. _____

1 Vul de namen op de goede plek in.

- Friesland
- Groningen
- Drenthe
- Noord-Holland
- Flevoland
- Overijssel
- Zuid-Holland
- Utrecht
- Gelderland
- Zeeland
- Noord-Brabant
- Limburg

2 Welke provincies zie je? Trek een lijn van de provincie naar de juiste naam.



5

1 Vul de namen op de goede plek in.

- Leeuwarden
- Groningen
- Assen
- Haarlem
- Lelystad
- Zwolle
- Den Haag
- Utrecht
- Arnhem
- Middelburg
- 's-Hertogenbosch
- Maastricht
- Amsterdam

2 Beantwoord de vragen.

Welke hoofdstad ligt het meest noordelijk?

Groningen

Welke hoofdstad ligt het meest zuidelijk?

Maastricht

Welke hoofdstad ligt het meest westelijk?

Middelburg

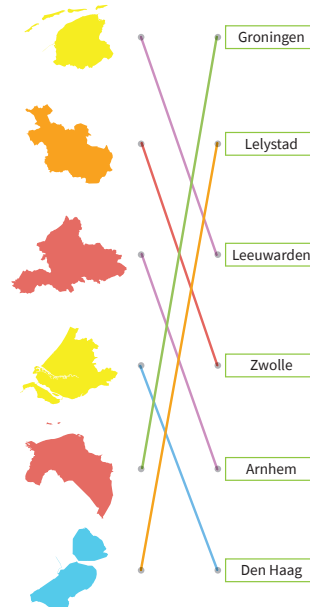
Wat is de hoofdstad van Nederland?

Amsterdam

3 Welke hoofdsteden liggen ten zuiden van de hoofdstad Utrecht? Kruis aan.

- | | |
|--|--|
| <input checked="" type="checkbox"/> Arnhem | <input checked="" type="checkbox"/> Maastricht |
| <input checked="" type="checkbox"/> Den Haag | <input checked="" type="checkbox"/> Middelburg |
| <input type="checkbox"/> Groningen | <input checked="" type="checkbox"/> 's-Hertogenbosch |
| <input type="checkbox"/> Leeuwarden | <input type="checkbox"/> Zwolle |

4 Trek een lijn tussen de provincie en de hoofdstad.



7

1 Vul de namen op de goede plek in.

- Zeeland
- Middelburg
- Drenthe
- Assen
- Gelderland
- Arnhem
- Friesland
- Leeuwarden
- Groningen
- Groningen
- Noord-Brabant
- 's-Hertogenbosch
- Flevoland
- Lelystad
- Limburg
- Maastricht
- Utrecht
- Utrecht
- Noord-Holland
- Haarlem
- Zuid-Holland
- Den Haag
- Overijssel
- Zwolle

2 Zet een rondje om het juiste antwoord.

Limburg ligt in het **noorden** | **zuiden** | van Nederland.

De hoofdstad Groningen ligt ten **oosten** | **noorden** | van Assen.

Noord-Brabant grenst aan **Zeeland** | **Utrecht**.

Er zijn **twee** | **drie** | hoofdsteden die dezelfde naam hebben als de provincie.

Het meest noordelijke puntje van Nederland ligt in de provincie **Friesland** | **Groningen**.

Haarlem ligt in het **oosten** | **westen** | van Nederland.

Zuid-Holland grenst aan **vijf** | **zes** | andere provincies.

Zeeland en Noord-Holland | **Friesland en Limburg** | liggen aan zee.

Flevoland ligt ten **westen** | **oosten** | van Overijssel.

's-Hertogenbosch ligt het dichtst in de buurt van **Assen** | **Arnhem**.

Het meest zuidelijke puntje van Nederland ligt in **Limburg** | **Zeeland**.

Den Haag ligt in het **oosten** | **westen** | van Nederland.

9

1 Vul de namen op de goede plek in.

- Delfzijl
- Den Helder
- Sneek
- Heerenveen
- Alkmaar
- Hloorn
- Meppel
- Hoogeveen
- Emmen
- Almere
- Deventer
- Almelo
- Hengelo
- Enschede
- Amsterdam
- Blauwmerum
- Amersfoort
- Apeldoorn
- Leiden
- Ede
- Delft
- Gouda
- Rotterdam
- Spijkenisse
- Dordrecht
- Nijmegen
- Oss
- Ulsingen
- Goes
- Terneuzen
- Roosendaal
- Breda
- Tilburg
- Eindhoven
- Helmond
- Uden
- Roermond
- Sittard
- Heerlen
- Kerkrade

Wist je dat de twee grootste steden in het westen van Nederland liggen? Amsterdam heeft bijvoorbeeld meer dan 800.000 inwoners! De op een na grootste stad heeft meer dan 600.000 inwoners. Weet jij welke stad dat is? Zet daar een rondje omheen.



11