



Rekenen

Geschikt voor de LVS-toetsen 3.0 van het Cito

Inhoudsopgave

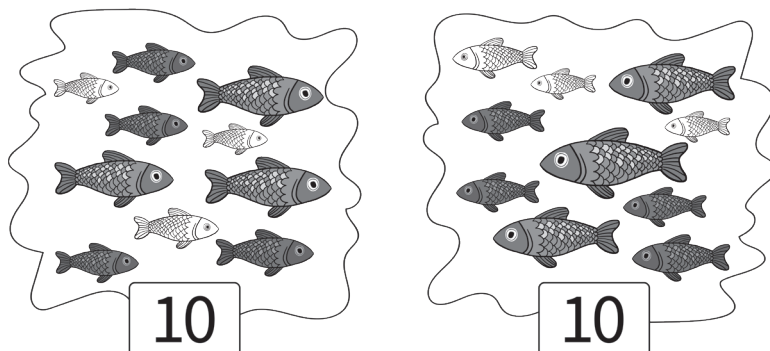
Rekenen | Getallen 2

Rekenen | Verhoudingen 18

Rekenen | Meten en meetkunde 28

Rekenen | Verbanden 40

1




In een vijver zwemmen 10 vissen.
In een andere vijver zwemmen ook 10 vissen.

Hoeveel vissen zwemmen in beide vijvers samen?

_____ vissen

2




Boer Jansen heeft 185 kippen.
Boer de Vries heeft 115 kippen.

Hoeveel kippen hebben ze samen?

_____ kippen

3 $63 - 38 =$ _____

4




Anne koopt 3 kaarsen. Samen kosten ze 170 cent.
Ze betaalt met 3 munten van 50 cent en een aantal munten van 10 cent.

Met hoeveel munten van 10 cent betaalt ze?

_____ munten van 10 cent

5



Fietswinkel De Spaak heeft 4 huurfietsen.
Per maand wordt elke fiets 9 keer verhuurd.

Hoe vaak worden de huurfietsen samen per maand verhuurd?

_____ keer

6 $3 \times 210 =$ _____

7 $8 \times 8 =$ _____

1



Een skipas kost voor 1 dag € 25,-.
Joris koopt een skipas voor 3 dagen.

Hoeveel moet Joris betalen?

€ _____

2



Moeder bakt taarten. Ze gebruikt in totaal 4 liter melk.
Per liter melk heeft moeder 2 eieren nodig.

Hoeveel eieren heeft moeder in totaal nodig?

_____ eieren

3

Er gaan 60 kinderen mee op schoolreis.
Per 15 kinderen gaan er 2 ouders mee.

Hoeveel ouders gaan mee op schoolreis?

_____ ouders

1



De bus is om twee uur vertrokken en komt aan om kwart over drie.

Hoeveel minuten is de bus onderweg?

_____ minuten

2



Waarmee wordt het gewicht van een kat aangegeven?

- | | |
|---|---|
| <input type="checkbox"/> in centimeters | <input type="checkbox"/> in kilogrammen |
| <input type="checkbox"/> in meters | <input type="checkbox"/> in liters |

3 De oma van Freddie is 65 jaar. Haar zoon is 26 jaar jonger.

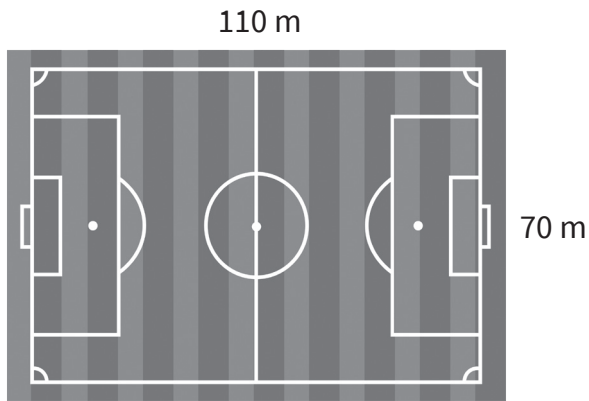
Hoe oud is de zoon van oma?

_____ jaar

- 4 Eline zegt: 'Over twee dagen moet je naar de tandarts.'
Henk zegt: 'Dat klopt. Ik moet woensdag 11 februari om 9 uur bij de tandarts zijn.'

Welke dag van de week en welke datum is het nu?

5



Joost loopt twee keer om het voetbalveld heen.

Hoeveel meter loopt Joost in totaal?

_____ meter

- 6 Het tv-programma begint om 8 uur en duurt 45 minuten.

Hoe laat is het tv-programma afgelopen?

- | | |
|--|---|
| <input type="checkbox"/> kwart over acht | <input type="checkbox"/> kwart voor negen |
| <input type="checkbox"/> half negen | <input type="checkbox"/> kwart over negen |

- 7 Romy heeft 196 centimeter ver gesprongen.

196 centimeter is bijna _____ meter