



Rekenen

Geschikt voor de LVS-toetsen 3.0 van het Cito

Inhoudsopgave

Rekenen | Getallen 2

Rekenen | Verhoudingen 18

Rekenen | Meten en meetkunde 28

Rekenen | Verbanden 40

1 $3 \times 160 =$ _____

2 $7 \times 6 =$ _____

3



Job koopt een pudding. Die kost 380 cent.
Hij betaalt met 6 munten van 50 cent en een aantal munten van 20 cent.

Met hoeveel munten van 20 cent heeft Job betaald?

_____ munten van 20 cent

4



Debbie gebruikt elke avond afwasmiddel.
Dat kost 15 eurocent per keer.

Hoeveel eurocent is Debbie krijgt na 30 dagen?

_____ eurocent

5



Op de rommelmarkt bij basisschool De Vijver staan 12 kraampjes.
Bij basisschool De Clown staan evenveel kraampjes.

Hoeveel kraampjes staan er bij beide scholen samen?

_____ kraampjes

6



Boer Gerritsen heeft 327 koeien en 73 kalfjes.

Hoeveel dieren zijn dat in totaal?

_____ dieren

7 $76 - 47 =$ _____

1

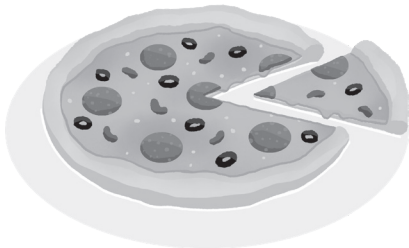


Om 8 uur 's ochtends vertrekt het eerste vliegtuig.
Daarna vertrekt om de 15 minuten een vliegtuig.
Het laatste vliegtuig vertrekt om 12 uur 's middags.

Hoeveel vliegtuigen zijn er in totaal vertrokken?

_____ vliegtuigen

2



Moeder snijdt de pizza in even grote punten.

Ongeveer hoeveel punten zal ze in totaal kunnen afsnijden?

- 5 punten 8 punten
 6 punten 10 punten

3

Lisa leest graag leesboeken en stripboeken.
Wanneer ze 5 leesboeken gelezen heeft, leest ze 1 stripboek.

Hoeveel stripboeken leest Lisa, wanneer ze 25 leesboeken heeft gelezen?

_____ stripboeken

1 Bij een wedstrijd springt een sporter 695 centimeter ver.

Dat is bijna _____ meter.

2 begin schooldag

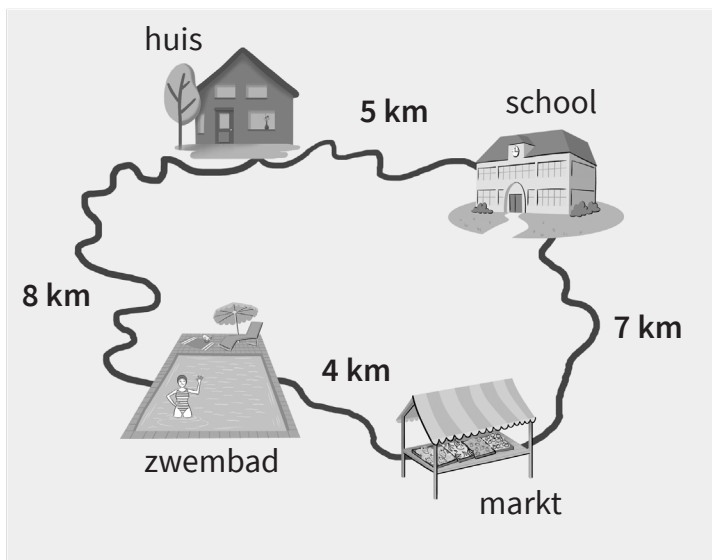
eind schooldag



Hoelang duurt de schooldag?

_____ uur en _____ minuten

3



Marjolein fietst vanaf huis naar school.

Na school fietst ze naar de markt en daarna fietst ze door naar het zwembad.

Na het zwemmen fietst ze terug naar huis.

Hoeveel km heeft Marjolein in totaal gefietst?

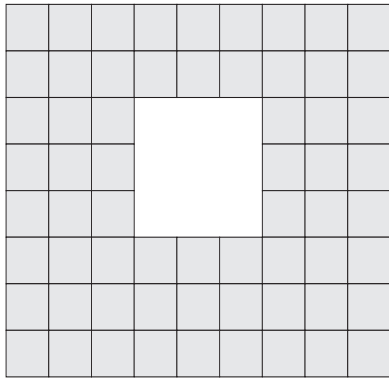
_____ km

4 Joska zegt tegen Stef: 'Het is nu 8 uur en je moet over 45 minuten bij de tandarts zijn.'

Hoe laat moet Stef bij de tandarts zijn?

- kwart voor acht half negen
 kwart over acht kwart voor negen


5



Hoeveel tegels ontbreken op het terras?

_____ tegels

6



Kies uit: gram - liter - kilogram - meter

Het konijn van Samira weegt 2 _____.

7 Franka weegt 68 kilogram. Dat is 23 kilogram minder dan het gewicht van Rutger.

Hoeveel kilogram weegt Rutger?

_____ kilogram