

GROEP

5

WERKBOEK 1



REKENEN

VOOR DE LVS-TOETSEN

Geschikt om te oefenen voor de toetsen van Cito, IEP en andere toetsaanbieders

Van boek tot beeldscherm: een compleet aanbod

Extra uitleg met video's

Kom je er even niet uit en snap je een vraag niet zo goed? Vraag aan je juf of meester om deze QR-code te scannen. Dan krijg je handige video's waarin alles duidelijk wordt uitgelegd.

Kun je de QR niet scannen?

Ga dan naar: https://www.junioreinstein.nl/to_shop



Luister mee met de teksten en vragen

Wil je luisteren en lezen tegelijk? Vraag aan je juf of meester om deze QR-code te scannen. Je kunt dan meeluisteren met alle teksten en vragen.

Kun je de QR niet scannen?

Ga dan naar: https://www.junioreinstein.nl/to_shop



Inhoudsopgave

Getallen en bewerkingen 4

Verhoudingen 18


Meten en meetkunde 20

Verbanden 32

Kladblok 38



1



299



Marije

325



Sharon

318



Suus



3 kinderen raden hoeveel snoepjes in de snoeppot zitten.

Wie raadt dit het best?

- Marije
- Sharon
- Suus

2

$$3 \times 75 = \underline{\hspace{2cm}}$$

3



Tristan plakt 72 spaarzegels op spaarkaarten.

Hoeveel spaarkaarten kan hij volplakken?

 spaarkaarten



- 1 Kaya heeft 24 snoepjes.
Ze geeft de helft aan haar zusje.


Hoeveel snoepjes geeft Kaya aan haar zusje?

_____ snoepjes

2 **Een dinohoed knutselen**

Benodigdheden voor 1 hoed:

- 2 vellen groen papier
- 1 vel zwart papier
- schaar
- potlood
- liniaal
- nietmachine



Meester Koen wil met zijn klas dinohoeden maken.
In zijn klas zitten 32 kinderen.

Hoeveel vellen groen papier heeft meester Koen nodig?

_____ vellen

- 3 36 kinderen bezoeken een waterpark.
Per 6 kinderen gaat er 1 ouder mee.

Hoeveel ouders gaan er in totaal mee?

_____ ouders

- 4 Maak de verhoudingstabel af.

aantal eieren	1	6	3
aantal pannenkoeken	4	24	<input type="text"/>



1



Hoeveel euro is dit samen?

_____ euro en _____ cent

2 Een vlindersoort kan wel tot 30 centimeter lang worden.

Hoeveel millimeter is dat?

_____ millimeter

3



Welke wekker geeft dezelfde tijd aan als de wijzerklok?



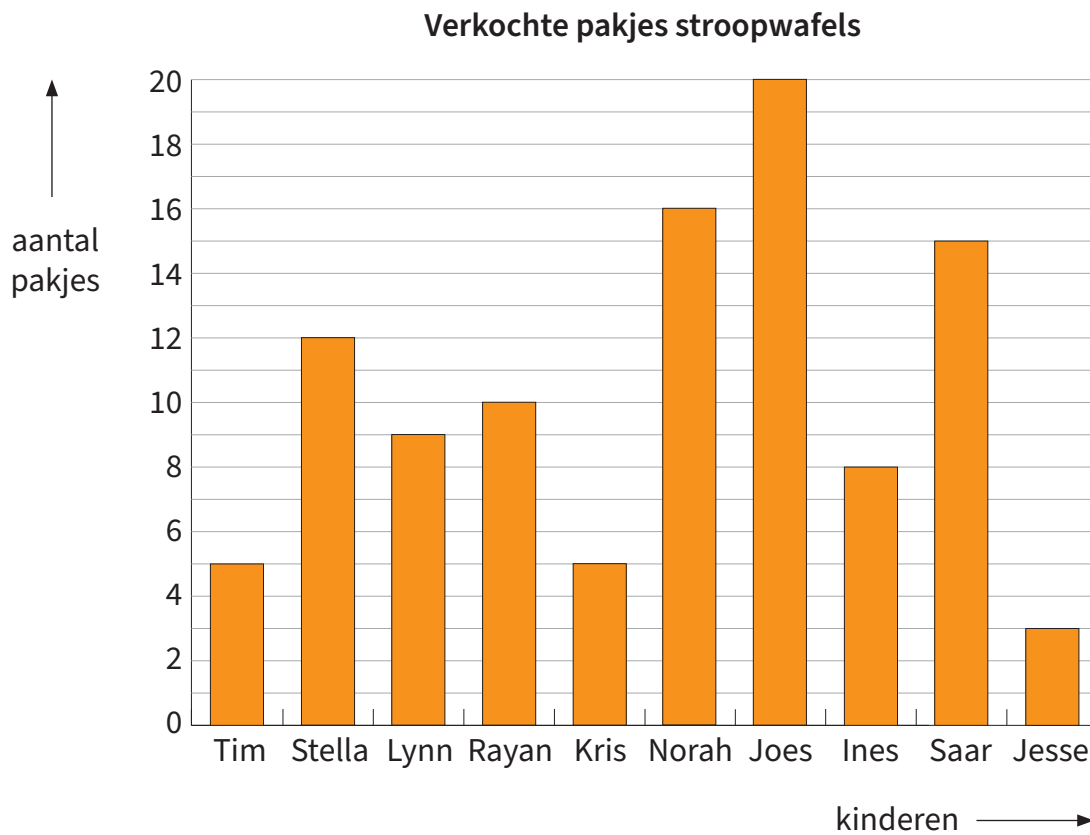
B



C



De opgaven 1 tot en met 3 horen bij onderstaande staafgrafiek.



1 Welke twee kinderen verkochten evenveel pakjes stroopwafels?

- Tim en Kris
 Kris en Ines
 Lynn en Rayan
 Norah en Saar

2 Wie verkocht drie keer zoveel pakjes stroopwafels als Jesse?

3 Hoeveel pakjes stroopwafels verkocht Joes meer dan Saar?

_____ pakjes

COPYRIGHT

© 2025 Junior Einstein bv
Enschede, the Netherlands

EINDREDACTIE

Joan Sanders
Michelle Leuveld

AUTEURS

Anniko Maas
Joan Sanders
Michelle leuveld
Else Augustijn

DRUK

1e druk

VORMGEVING

Jelle de Rooij

ISBN

978-94-93442-29-0

NUR

190

Behoudens de in of krachtens de Auteurswet van 1912 gestelde uitzonderingen mag niets uit deze uitgave worden verveelvoudigd, opgeslagen in een geautomatiseerd gegevensbestand, of openbaar gemaakt, in enige vorm of op enige wijze, hetzij elektronisch, mechanisch door fotokopieën, opnamen of enig andere manier, zonder voorafgaande schriftelijke toestemming van de uitgever.

Voor zover het maken van kopieën uit deze uitgave is toegestaan op grond van artikelen 16h t/m 16m Auteurswet 1912 jo. Besluit van 27 november 2002, Stb 575, dient men de daarvoor wettelijk verschuldigde vergoeding te voldoen aan de Stichting Reprorecht te Hoofddorp (postbus 3060, 2130 KB, www.reprorecht.nl) of contact op te nemen met de uitgever voor het treffen van een rechtstreekse regeling in de zin van art. 16l, vijfde lid, Auteurswet 1912. Voor het overnemen van gedeelte(n) uit deze uitgave in bloemlezingen, readers en andere compilatiewerken (artikel 16, Auteurswet 1912) kan men zich wenden tot de Stichting PRO (Stichting Publicatie- en Reproductierechten, postbus 3060, 2130 KB Hoofddorp).

All rights reserved. No part of this book may be reproduced in any way whatsoever without the written permission of the publisher.



Dit boek is gedrukt op FSC-gecertificeerd papier. Dit betekent dat het papier afkomstig is uit verantwoord beheerde bossen en andere gecontroleerde bronnen. FSC (Forest Stewardship Council) zet zich in voor milieuvriendelijke, sociale en economische duurzaamheid van bossen wereldwijd. Door FSC-gecertificeerd papier te gebruiken, dragen we bij aan de bescherming van bossen voor toekomstige generaties.