



REKENEN

VOOR DE LVS-TOETSEN

Geschikt om te oefenen voor de toetsen
van Cito, IEP en andere toetsaanbieders

Van boek tot beeldscherm: een compleet aanbod

Extra uitleg met video's

Kom je er even niet uit en snap je een vraag niet zo goed? Vraag aan je juf of meester om deze QR-code te scannen. Dan krijg je handige video's waarin alles duidelijk wordt uitgelegd.

Kun je de QR niet scannen?

Ga dan naar: https://www.junioreinstein.nl/to_shop



Luister mee met de teksten en vragen

Wil je luisteren en lezen tegelijk? Vraag aan je juf of meester om deze QR-code te scannen. Je kunt dan meeluisteren met alle teksten en vragen.

Kun je de QR niet scannen?

Ga dan naar: https://www.junioreinstein.nl/to_shop



Inhoudsopgave

Getallen en bewerkingen 4

Verhoudingen 18

Meten en meetkunde 20

Verbanden 32

Kladblok 38



1

$$87 - 49 = \underline{\hspace{2cm}}$$

2

Sophie heeft 600 gram frambozen.
Ze doet steeds 75 gram frambozen in een bakje.

Hoeveel bakjes kan ze vullen?

 bakjes

3

$$630 : 7 = \underline{\hspace{2cm}}$$

4



Tara heeft 3 pakken hagelslag.

Hoeveel gram wegen de pakken hagelslag samen?

 gram

5

Maak de getallenrij af.

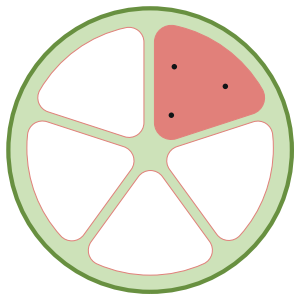
925

875


825



1 Welk figuur is voor een kwart gevuld?



A



B



C

2 In de klas van Maarten zitten 32 kinderen.
1 op de 4 kinderen heeft één huisdier.

Hoeveel huisdieren zijn dat in totaal?

_____ huisdieren

3 De helft van 244 is ...

4 **Appelmoes**

Recept voor 4 personen:

- 1 kg appels
- halve citroen
- 100 ml kraanwater
- 1 eetlepel suiker
- 1 theelepeltje kaneel

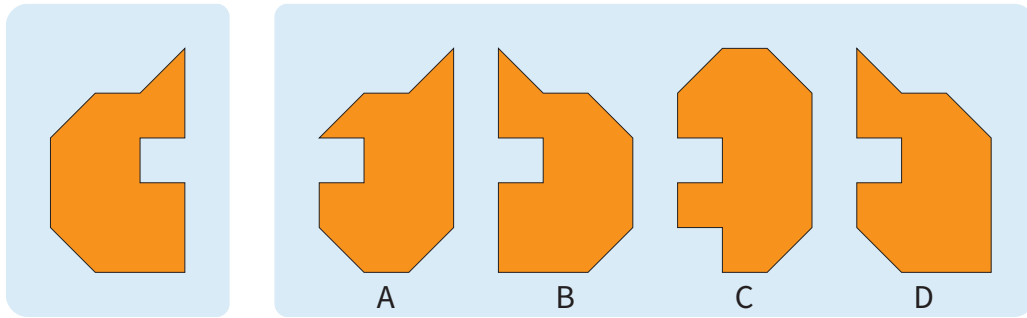


Hoeveel ml kraanwater heeft Lauren nodig voor 8 personen?

_____ ml



1



Waar zie je het spiegelbeeld van het figuur links?

- A C
 B D

2



Maurits koopt deze step.
Hij betaalt met 3 briefjes van 20 euro.
Hij krijgt 1 briefje en 1 munt terug.

Wat krijgt Maurits terug?

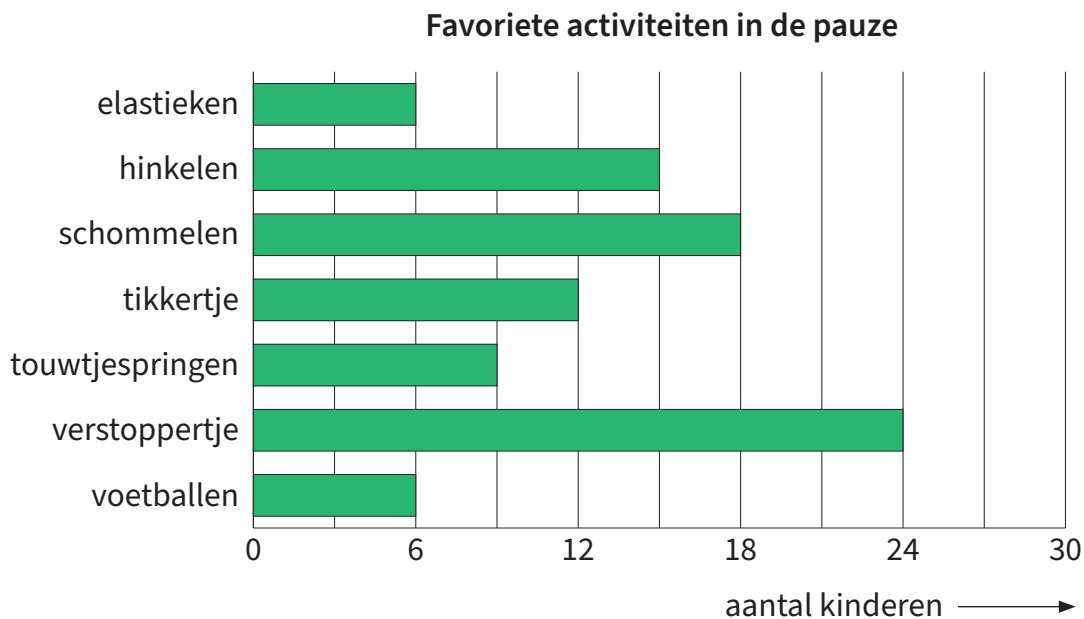
1 briefje van _____ euro en 1 munt van _____ cent

3 90 centimeter is hetzelfde als ...

- 90 millimeter 900 centimeter
 9 decimeter 9 meter



De opgaven 1 tot en met 4 horen bij onderstaande staafdiagram.



1 Hoeveel kinderen kozen voor touwtjespringen?

_____ kinderen

2 Welke activiteit werd door de meeste kinderen gekozen?

3 Welke twee activiteiten werden door evenveel kinderen gekozen?

- elastieken en touwtjespringen
- elastieken en voetballen
- hinkelen en tikkertje
- schommelen en verstoppertje

4 Hoeveel meer kinderen kozen voor schommelen dan voor touwtjespringen?

_____ kinderen

COPYRIGHT

© 2025 Junior Einstein bv
Enschede, the Netherlands

EINDREDACTIE

Joan Sanders
Michelle Leuveld

AUTEURS

Anniko Maas
Joan Sanders
Michelle leuveld
Else Augustijn

DRUK

1e druk

VORMGEVING

Jelle de Rooij

ISBN

978-94-93442-30-6

NUR

190

Behoudens de in of krachtens de Auteurswet van 1912 gestelde uitzonderingen mag niets uit deze uitgave worden verveelvoudigd, opgeslagen in een geautomatiseerd gegevensbestand, of openbaar gemaakt, in enige vorm of op enige wijze, hetzij elektronisch, mechanisch door fotokopieën, opnamen of enig andere manier, zonder voorafgaande schriftelijke toestemming van de uitgever.

Voor zover het maken van kopieën uit deze uitgave is toegestaan op grond van artikelen 16h t/m 16m Auteurswet 1912 jo. Besluit van 27 november 2002, Stb 575, dient men de daarvoor wettelijk verschuldigde vergoeding te voldoen aan de Stichting Reprorecht te Hoofddorp (postbus 3060, 2130 KB, www.reprorecht.nl) of contact op te nemen met de uitgever voor het treffen van een rechtstreekse regeling in de zin van art. 16l, vijfde lid, Auteurswet 1912. Voor het overnemen van gedeelte(n) uit deze uitgave in bloemlezingen, readers en andere compilatiewerken (artikel 16, Auteurswet 1912) kan men zich wenden tot de Stichting PRO (Stichting Publicatie- en Reproductierechten, postbus 3060, 2130 KB Hoofddorp).

All rights reserved. No part of this book may be reproduced in any way whatsoever without the written permission of the publisher.



Dit boek is gedrukt op FSC-gecertificeerd papier. Dit betekent dat het papier afkomstig is uit verantwoord beheerde bossen en andere gecontroleerde bronnen. FSC (Forest Stewardship Council) zet zich in voor milieuvriendelijke, sociale en economische duurzaamheid van bossen wereldwijd. Door FSC-gecertificeerd papier te gebruiken, dragen we bij aan de bescherming van bossen voor toekomstige generaties.